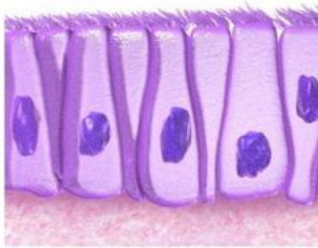


JARINGAN HEWAN

1. Jaringan Epitel

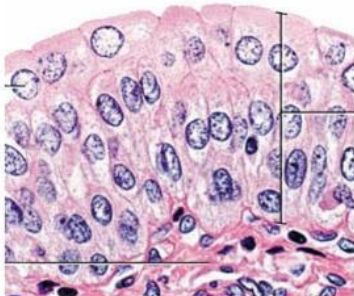
Petunjuk: Hubungkan dengan tanda panah gambar jenis jaringan epitel dengan namanya!



Pipih Selapis



Silindris selapis



Silindris berlapis



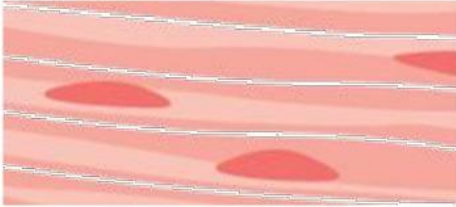
Kubus Selapis

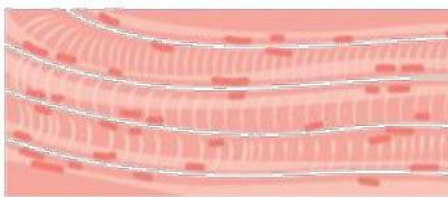


Transisional

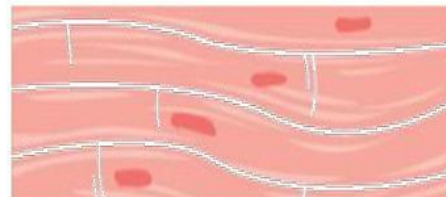
2. JARINGAN OTOT

Petunjuk: Tarik bagian letak dan gambar jaringan otot dibawah ini dan letakkkan pada pada tabel yang sesuai!

NAMA	GAMBAR	LETAK
OTOT LURIK		
OTOT POLOS		
OTOT JANTUNG		<div>Jantung</div>



Saluran
Pencernaan



Melekat
Pada Tulang

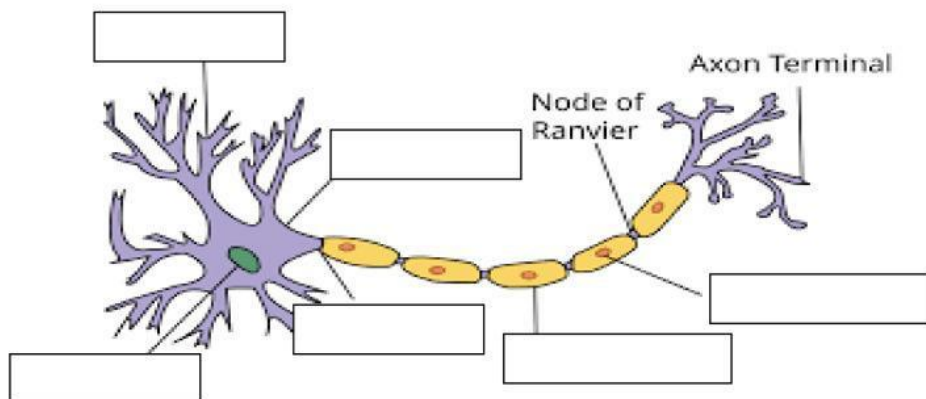
3. SOAL PILIHAN GANDA

Petunjuk: Pilih Jawaban yang benar!

1. Jaringan yang berfungsi melindungi jaringan dibawahnya dan sebagai transportasi zat adalah....
 - a. Jaringan Epitel
 - b. Jaringan Ikat
2. Jaringan yang berfungsi sebagai penyokong dan pembentuk tubuh adalah....
 - a. Jaringan Epitel
 - b. Jaringan Ikat
3. Jaringan tersusun atas sel-sel tulang rawan disebut....
 - a. Osteon
 - b. Kartilago
4. Jaringan yang terdiri atas plasma darah, trombosit (keping-keping darah) dan sel-sel darah (sel darah merah (eritrosit) dan sel darah putih (leukosit) adalah jaringan....
 - a. Jaringan darah
 - b. Jaringan limfa
5. Jenis jaringan otot yang kerjanya secara sadar adalah....
 - a. Otot polos
 - b. Otot lurik

4. JARINGAN SARAF

Petunjuk: Tarik nama bagian saraf di bawah ini dan letakkan pada kotak gambar yang sesuai!



Akson

Badan Sel

Nukleus

Selubung Mielin

Inti Sel Schwan

Dendrit