


DEMOSTRANDO NUESTROS APRENDIZAJES

1. ¿Cuánto de dinero hay?



A.22 B.20 C.32

2. En la secuencia, ¿qué número va en la COLA del gusano?



3. Si un auto tiene 4 llantas. ¿cuántas llantas habrá total en 3 autos?



RESPUESTA:



4. De las pelotitas, ordena de mayor a menor.



5. ¿Cuántas VOCALES tiene el nombre de la siguiente imagen?

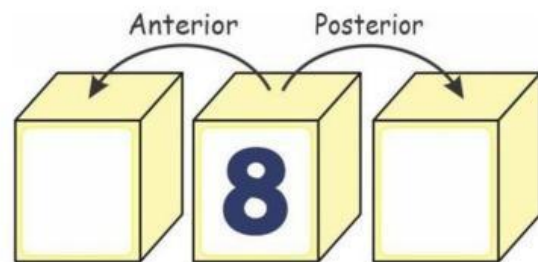


MARIPOSA

RESPUESTA:



6. Escribe el número anterior y posterior de ocho.



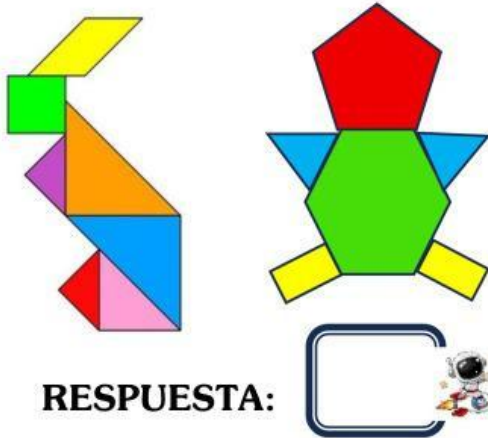
7. Leonel tiene 7 perritos, ¿cuántos perritos le falta para que tenga una DOCENA?



RESPUESTA:



8. ¿Cuántos TRIÁNGULOS hay en la siguiente imagen?



RESPUESTA:

9. Leonel tiene tres billetes, ¿Cuánto suma el billete de mayor valor y menor valor?



RESPUESTA: soles

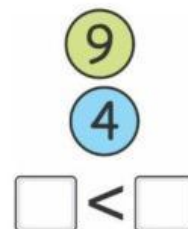
10. Completa las sumas .

$\begin{array}{r} 6 + \\ 6 \\ \hline \end{array}$	$\begin{array}{r} 5 + \\ 7 \\ \hline \end{array}$
<input type="text"/>	<input type="text"/>

11. Relaciona cada figura con su nombre.



12. Coloca los números en los recuadros para que la comparación sea correcta.



13. Resuelve la suma que esta a la derecha del niño.



RESPUESTA:

14. ¿Cuál es la figura que tiene más lados?



A) F

B) F

C) R