



PRUEBA DE DIAGNÓSTICO

Historia, Geografía y Ciencias Sociales

**PRIMER AÑO BÁSICO
2021**

CUREPTO, marzo 2021

Observa la imagen y responde las preguntas 5 y 6 marcando la alternativa correcta.



5

Una de las características semejantes de los estudiantes es:

- a) son todas mujeres
 - b) son todos del mismo curso
 - c) son todos hermanos
-

6

¿Qué diferencia puede tener el grupo de niños?

- a) Tienen diferentes padres
- b) Todos tienen clases a la misma hora.
- c) Todos van al mismo colegio.

Observa la imagen y responde las preguntas 7 y 8.



7

¿Cuál crees que puede ser una costumbre de esta familia?

- a) Viajar fuera del país
 - b) Ver TV hasta muy tarde
 - c) Compartir en familia.
-

8

¿Quién crees que es el jefe de la familia?

- a) Ambos padres
- b) Hija
- c) Hijo

9

Las imágenes que observas son:

- a) Tradiciones de Chile
- b) Símbolos Patrios
- c) Arte de la Patria



10

¿A qué corresponde la imagen que observas?

- a) Fiesta de la Vendimia
- b) Fiestas Patrias
- c) Fiesta de la Tirana



11


¿Cuál es un juego típico que se realiza en nuestras Fiestas Patrias?



Emboque



Trompo



Volantín

12

¿Cuál es nuestra flor nacional?



Copihue




Rosas



Clavel

13

Un gran poeta o poetisa que ha tenido Chile es:



Sebastián Piñera



Arturo Vidal



Gabriela Mistral

14

Lo que observas es un dibujo que representa un lugar como si lo miráramos de arriba. Así puedes representar lugares como tu pieza, tu casa, el colegio o tu barrio

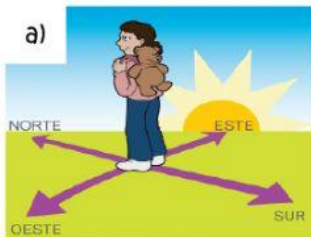
Este tipo de representación recibe el nombre de:

- a) Mapa
- b) Paisaje
- c) Plano



15

¿Cuál de las imágenes que observas son formas de representar lugares?



Observa el mapa y responde las preguntas 16, 17 y 18

16

¿De qué color está pintado Chile?

- a) Naranja
- b) Gris
- c) Azul



17

¿Con qué signo está representado la ubicación del Océano Pacífico?



18

¿Qué nombre recibe los lugares pintados de diferentes colores en el mapa?

- a) País
- b) Ciudad
- c) Continente

19

¿Lo que observas es?

- a) volcán
- b) cordillera
- c) cerro



20

¿Cuál de los siguientes trabajos no es remunerado?



a)



b)



c)

21

El trabajo del agricultor es muy importante porque gracias a ellos obtenemos alimentos como:

- a) pan y fideos
- b) Mariscos y pescados
- c) frutas y verduras



22

Observa y responde:

¿Qué significa la imagen que observas?

- a) Que los niños son felices
- b) Que hay niños en todo el mundo
- c) Que los niños juegan ronda



23

Observa y responde:


¿En qué parte del mundo crees que viven estos niños?

- a) Estados Unidos
- b) Japón
- c) África



24

¿En qué imagen los niños NO demuestran una buena actitud?



25

Observa y responde. Según la imagen una responsabilidad de los niños es:

- a) Estudiar
- b) Pasear
- c) Jugar



26

¿Qué ilustran las imágenes que observas?

- a) Cuidado por su vestuario
- b) Cuidado por su higiene
- c) Cuidado por su presentación



27

Observa la imagen:



En ella se ilustra una norma de seguridad que los niños deben aplicar cuando:

- a) Caminan b) juegan c) Viajan

28

¿Cuál es la institución que vela por el cuidado, orden y seguridad de todas las personas?



a)



b)



c)

29

¿En qué institución trabaja la mujer de la imagen?

- a) En una Escuela
b) En un Hospital
c) En una Municipalidad



Excelente terminaste la evaluación.
¡Muy Bien!

