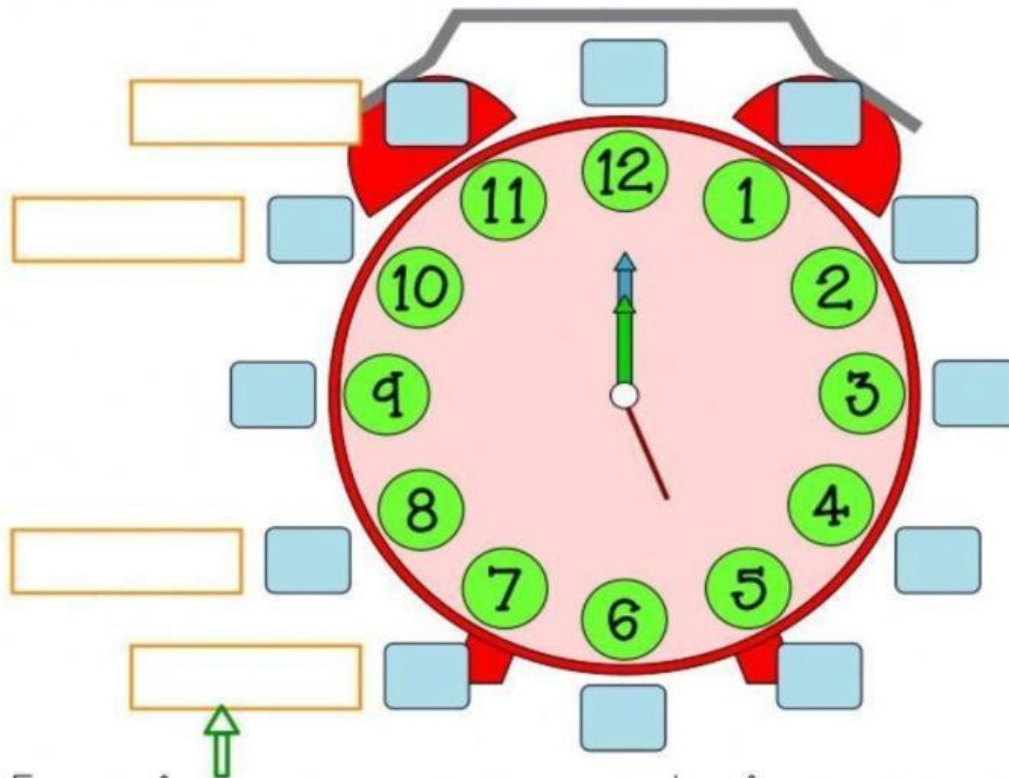


FICHA INTERACTIVA MATEMÁTICA- 3°

El reloj: medición del tiempo

1. Coloca los minutos en su lugar.

45 50 20 55 15 00 25 35 05 10 40 30



2. Escoge la opción correcta, cuando el minuterero señala a esos rectángulos en un reloj analógico...¿Cómo se lee la hora?

3. Qué hora es? Une.



Las 3 menos 25.

Las 6 menos 10.

Las 11 menos 20.

La 1 menos 5.



3. Marca la hora correcta.



Las dos menos cuarto

Las tres y diez

Las dos y diez



Las doce y cuarto

Las seis en punto

Las doce y media



Las nueve y veinticinco

Las cinco menos cuarto

Las ocho y media



Las doce y veinticinco

Las doce menos veinticinco

Las cinco en punto



Las seis y diez

Las seis y cuarto

Las dos y media



Las once y cinco



Las ocho y cuarto

La una menos cinco

4. Completa escribiendo la hora con letra y en el reloj digital.



1. Marca el reloj analógico que marque la misma hora que el digital.



1.- Escoge la opción correcta, tomando en cuenta la hora del reloj digital

07:55H		09:30H	
14:30H		20:30H	
05:30H		08:25H	
11:35H		18:40H	

2.- Escoge la opción correcta, tomando en cuenta la hora del reloj digital

12:15H	9:30H	18:00H	14:15H	20:45H
--------	-------	--------	--------	--------

