

Reúnete con un compañero para identificar cuál de los valores le corresponde a cada símbolo de los que aparecen en la escalera, de tal forma que al sumar los de cada renglón y los de cada columna, el resultado sea 10.

Encuentra el valor de cada símbolo y arrastra las fracciones a sus casillas.

Arrastra correctamente


$6\frac{5}{9}$


$\frac{8}{4}$


$2\frac{1}{3}$


$4\frac{5}{10}$


$3\frac{2}{9}$


 =

 =

 =


 =


 =

 =


$5\frac{2}{3}$


$1\frac{1}{9}$





$5\frac{2}{3}$





$3\frac{1}{2}$

LIVEWORKSHEETS