


LKPD

Ilmu Pengetahuan Alam & Sosial

Tema:

Pancaindra Manusia



Nama:

Kelas:

KENALI PANCAINDRA

Nama:

Kelas:



Instruksi:

Tarik garis dengan gambar yang sesuai
antara gambar indra dan fungsinya:

Merasakan
sentuhan dan suhu



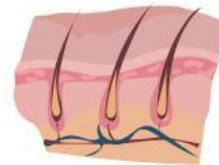
Melihat benda di
sekitar



Mencium berbagai
bau



Merasakan
berbagai rasa
makanan




Mendengar suara
musik



TEKA-TEKI SILANG (TTS)



Bagian-bagian Pancaindra dan fungsinya



Nama:

Kelas:

Gunakan petunjuk di bawah ini untuk memecahkan teka-teki silang!

Across:

2. Mata, lidah, telinga, hidung, dan kulit termasuk...
3. Pancaindra yang berfungsi membantu merasakan rasa makanan
4. Pancaindra yang membantu mendengar suara di sekitar dan menjaga keseimbangan tubuh adalah...
6. Bagian telinga yang berfungsi untuk menyaring kotoran yang terbawa udara yang masuk adalah...
8. Pancaindra yang berfungsi menghirup udara yang masuk ke dalam tubuh

Down:

1. Pancaindra yang berfungsi untuk melihat kondisi sekitar dalam visualisasi gambar
5. Bagian kulit yang dapat dilihat dan disentuh adalah...
7. Bagian telinga yang menyerupai rumah siput disebut juga dengan...
9. Berfungsi melindungi tubuh dari benda-benda asing dan membantu menjaga suhu tubuh agar tetap nyaman