



# EXAMEN MENSUAL DE RAZ. MATEMÁTICO- III BIMESTRE


NOMBRE Y APELLIDOS: .....

FECHA: / /2025 AULA: HONRADEZ MISS: DIANA ROJAS CUEVA

NOTA


1. DETERMINA LA SUMA DE LOS NÚMEROS FALTANTES EN ESTA SUSTRACCIÓN. (4 puntos)

$$\begin{array}{r} 8 \square 3 - \\ 5 \ 7 \square \\ \hline \square \ 6 \ 4 \end{array}$$




2. DETERMINA LOS VALORES FALTANTES EN LA SIGUIENTE ADICIÓN. (4 puntos)

$$\begin{array}{r} 2 \ 6 \square + \\ 2 \square 8 \\ \hline \square \ 4 \ 1 \end{array}$$



3. HALLA "b-a" EN LA SIGUIENTE MULTIPLICACIÓN. (4 puntos)

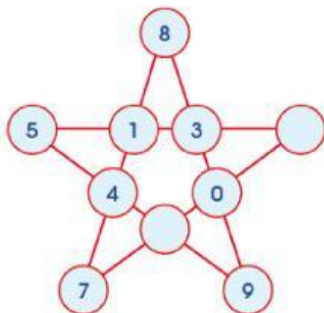
$$\begin{array}{r} \square a \ 5 \ \square b \times \\ \phantom{\square a \ 5 \ \square b} 2 \\ \hline 7 \ 1 \ 2 \end{array}$$



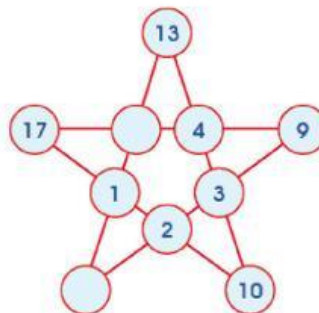
4. COMPLETA EL SIGUIENTE CRUCIGRAMA MATEMÁTICO. (4 puntos)

5	+	3	=	
+		+		+
1	+	4	=	
=		=		=
	+		=	

5. COMPLETA LAS SIGUIENTES ESTRELLAS MÁGICAS. (4 puntos)



Suma = \_\_\_\_\_



Suma = \_\_\_\_\_