

Lembar Kerja Peserta Didik

# LKPD

**AYO MEMBILANG  
SAMPAI DENGAN 10**

1 2 3 4 5 6 7 8 9 10

Oleh Anika Rahma Dani

Fase/Kelas : A/ I (Satu)

# IDENTITAS

Mata pelajaran: Matematika

Topik: Bab 1 Ayo Membilang sampai 10

Materi pokok: A. Menghitung, Membaca, dan Menulis Bilangan

Satuan pendidikan:.....

Fase/kelas: A/ I (Satu)

Tahun ajaran: 2025/2026

Elemen: Bilangan

Capaian Pembelajaran:

Peserta didik dapat membaca, menulis, menentukan nilai tempat, membandingkan, mengurutkan, serta melakukan komposisi (menyusun) dan dekomposisi (mengurai) bilangan.

Tujuan Pembelajaran: Melalui diskusi secara berkelompok(C), peserta didik (A) mampu menganalisis jumlah bialangan pada gambar dari LKPD bilangan sampai 10 (B) dengan benar (D). (C4/Menganalisis)



# PETUNJUK Pengerjaan

## Alat dan Bahan:




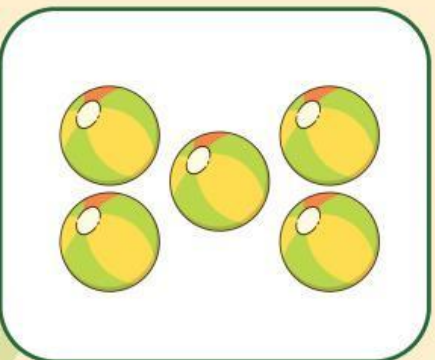



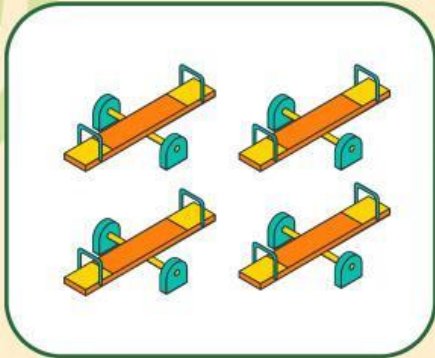
- Pensil
- Penghapus
- Penggaris

## Langkah-langkah:

1. Peserta didik menghitung jumlah benda yang ada di gambar kemudian dipasangkan pada tabel jumlah benda.
2. Peserta didik menghitung semua jumlah benda yang ada didalam gambar, kemudian menuliskan angka pada gambar yang terletak di atas dan di bawah secara terpisah.
3. Peserta didik bersama kelompok dapat menuliskan jawaban menggunakan pensil.
4. Peserta didik menggunakan penghapus untuk mengganti pertanyaan dan menggunakan penggaris untuk hasil LKPD yang rapi.

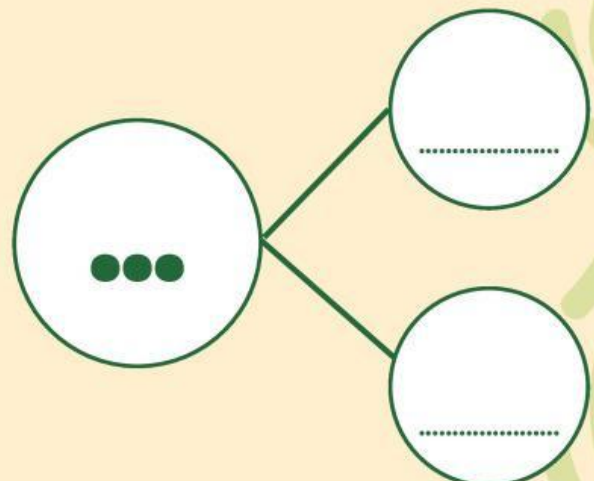

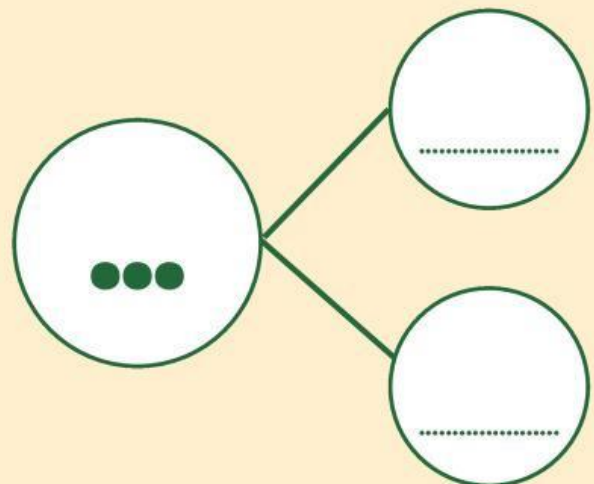

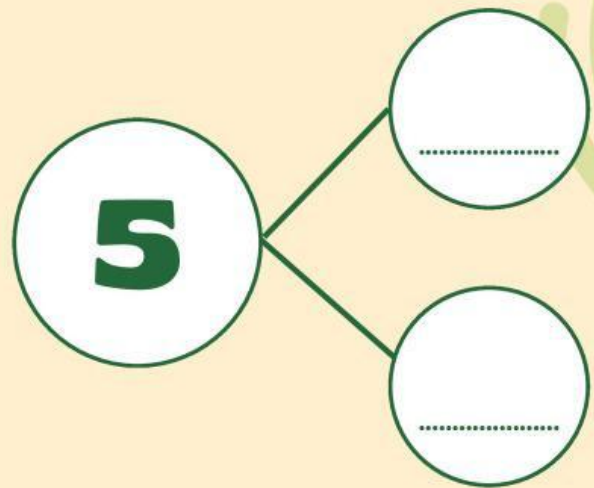
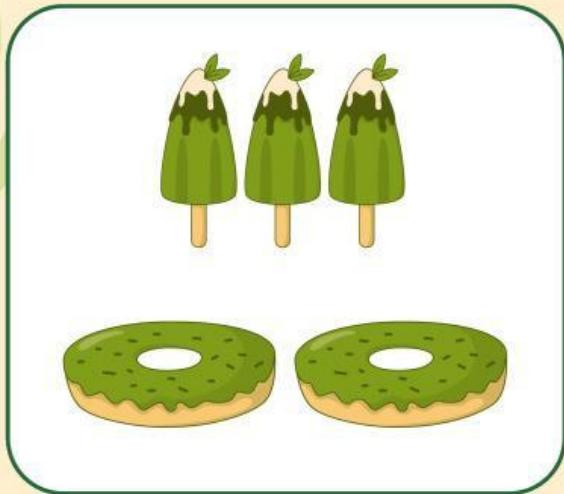
# AYO HITUNG JUMLAH BENDA!

Tariklah garis, pasangkan benda yang sama banyak.





# **AYO TEMUKAN PASANGAN BILANGAN BERIKUT!**



**TERIMA KASIH**