
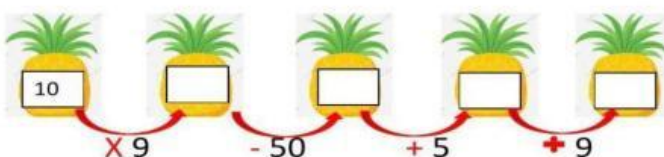
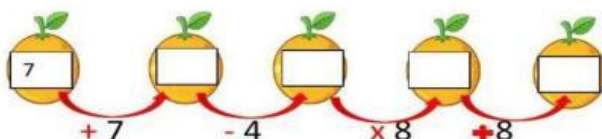



Nombre: _____

Fecha: _____

Razonamiento –lógico matemático**I.- Completa las cantidades faltantes en cada fruta según las operaciones indicadas**

El agricultor pasó por varios puntos donde tuvo que coger manzanas sumando y restando para obtener un resultado.

