

## Pembelajaran Jarak Jauh

Nama: \_\_\_\_\_

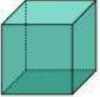
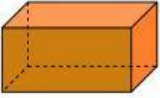
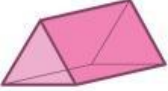
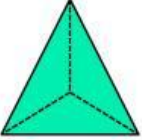
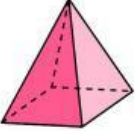


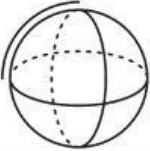
Hari: \_\_\_\_\_

Kelas: \_\_\_\_\_

Tanggal: \_\_\_\_\_

### Bangun Ruang

Klasifikasikan bentuk bangun ruang berikut!

No	Bentuk Bangun	Nama Bangun	Sisi Datar	Sisi Lengkung	Keterangan
1		Kubus	✓		Memiliki 6 buah sisi yang berbentuk persegi
2					
3					
4					
5					
6				✓	Memiliki 2 sisi berbentuk lingkaran dan satu sisi berbentuk persegi panjang
7					
8					
9	