


1. No SuperTinga são respeitadas as temperaturas dos congeladores para que nada estrague.

Temperaturas indicadas	
Mercadorias	Temperatura
Bebidas	15 °C
Carnes	0 °C
Congelados	-18 °C
Frutas e verduras	10 °C

Qual é o tipo de mercadoria que precisa estar em temperaturas negativas?

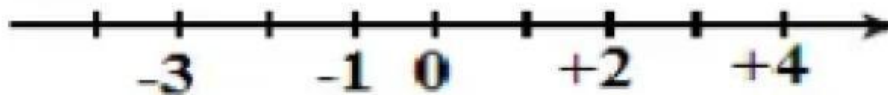
- (a) Bebidas
- (b) Carnes
- (c) Congelados
- (d) Frutas e verduras

2. Observe a imagem.



- a) Se Tom está na posição -8 em que posição está Tata?
- b) E se considerarmos que Dudu está na posição zero, qual a posição de Bia?

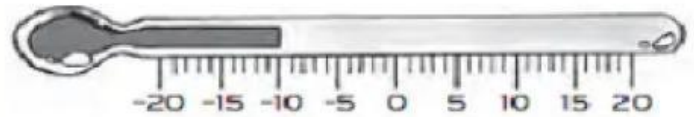
3. A professora esqueceu de escrever alguns números na reta numérica. Quais são esses números?



4. Quais das imagens podem ser representadas por números negativos?



5. O termômetro está marcando -10° . Quantos graus precisa subir para chegar em 2°C ?



6. A tabela abaixo são as anotações de um jogo de Canastra. Complete a tabela:


Jogador	Partida 1	Partida 2	Partida 3	Total
Peter	-30	-20	-50	
Mary	+20	-20	-30	
Liam	+50	+10	+20	
Carol	+30	-15	-15	
John	-60	+30	+40	

Agora, escreva os jogadores na ordem de quem fez mais pontos ao que fez menos pontos:

_____, _____, _____, _____, _____

7. Um investidor começou o mês com um saldo de R\$ -500,00 e terminou com R\$ 1200,00. Qual foi o aumento total?. _____

8. A tartaruga caminha pra frente (PF) ou para trás (PT). Indique onde ela pára ao caminhar de acordo com as instruções? Represente com um sinal e um número:



- a) PF 8:
- b) PT 5:
- c) PF 10 PT 7:
- d) PT 4 PF 3:
- e) PT 5 PF 9:

- f) PF 3 PT 8:
- g) PT 6 PF 6:
- h) PT 2 PF 7 PT 9: