

Bài 5**ÔN TẬP PHÉP CỘNG, PHÉP TRỪ
(không nhớ) TRONG PHẠM VI 100**

1 Tính nhẩm (theo mẫu).

a) $60 + 40 = ?$

6 chục + 4 chục = 10 chục

$60 + 40 = 100$

$50 + 50 =$

$70 + 30 =$

$20 + 80 =$

b) $100 - 20 = ?$

10 chục - 2 chục = 8 chục

$100 - 20 = 80$

$100 - 30 =$

$100 - 50 =$

$100 - 90 =$

2 Đặt tính rồi tính.


$35 + 4$

$52 + 37$

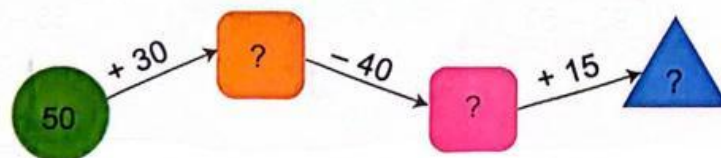
$68 - 6$

$79 - 55$


3 Hai phép tính nào dưới đây có cùng kết quả?



4 Số ?



5 Trên thuyền có 12 hành khách, đến bến có 3 hành khách lên thuyền. Hỏi lúc đó trên thuyền có tất cả bao nhiêu hành khách?



 **luyện tập**

1 Đ, S ?

a)
$$\begin{array}{r} 35 \\ + 4 \\ \hline 75 \end{array}$$

b)
$$\begin{array}{r} 59 \\ - 6 \\ \hline 53 \end{array}$$

c)
$$\begin{array}{r} 87 \\ - 32 \\ \hline 55 \end{array}$$

2 Tính.

$20 + 6$

$57 - 7 =$

$3 + 40 =$

$43 + 20 =$

$75 - 70 =$

$69 - 19 =$

3



Phép tính có kết quả bé hơn 50	Phép tính có kết quả lớn hơn 50
<input type="text"/>	<input type="text"/>
<input type="text"/>	<input type="text"/>
<input type="text"/>	<input type="text"/>

4 Tìm chữ số thích hợp.

a)
$$\begin{array}{r} 36 \\ + \square 2 \\ \hline 7\square \end{array}$$

b)
$$\begin{array}{r} \square 8 \\ - 46 \\ \hline 5\square \end{array}$$

c)
$$\begin{array}{r} 5\square \\ + \square 2 \\ \hline 87 \end{array}$$

5 Đàn trâu và bò của nhà bác Bình có 28 con, trong đó có 12 con trâu.
Hỏi nhà bác Bình có bao nhiêu con bò?



1 a) Những phép tính nào dưới đây có cùng kết quả?



b) Phép tính nào dưới đây có kết quả bé nhất?



2 Số ?

a) $10 + \square = 20$

b) $30 - \square = 20$

c) $50 + \square = 70$

d) $80 - \square = 40$

3 Tính.

a) $50 + 18 - 45 =$

b) $76 - 56 + 27 =$

4 Một rạp xiếc có 96 ghế, trong đó 62 ghế đã có khán giả ngồi. Hỏi trong rạp xiếc còn bao nhiêu ghế trống?

Bài giải



5 Số ?

