


# E - LKPD INFORMATIKA

SMP KELAS VII



Disusun Oleh : ANNA AFRIANY, S.Si.,Gr

# BERPIKIR KOMPUTASIONAL

Contoh soal :



0



1



0



0




1

= 9 gambar hati

= 01001 (kode biner)

Tantangan:


1. Temukan kode untuk 16 gambar hati.  
Isi kotak kosong disebelah kanannya dengan angka biner



=



2. Temukan kode untuk 13 gambar hati.



=





3. Pasangkan kartu yang tepat untuk mendapatkan kode yang sesuai, urutkan dari kiri berdasarkan nomor terbesar




 = 10011  
(14 gambar hati)



 = 10001  
(12 gambar hati)



4. Temukan kode untuk 24 gambar hati



SELAMAT BELAJAR

