

Escuela Rogelio Fernández G.
I Estrategia Evaluativa de Matemática
Licda. Nicole Sánchez Serrano
II Semestre
Nivel: 3-3

Tiempo probable 80 minutos
Valor de la prueba 18 puntos



Valor porcentual 10 %

Puntuación Obtenido_____

Calificación Obtenida_____

Porcentaje Obtenido_____

Nombre del Estudiante: _____

Fecha: _____

Instrucciones Generales:

- Lea cuidadosamente cada pregunta y conteste lo que se le solicita.
- Levante la mano si tiene alguna duda, para que sea atendido(a).
- Resuelva su prueba en silencio y de manera individual.
- Trabaje con orden y aseo.
- Revise la prueba antes de entregarla.

Actividad#1. Indicaciones. Marque la opción correcta de cada enunciado. (4 pts,1 punto cada respuesta correcta).

1. Marque la opción que tiene el resultado correcto con la tabla del 1.

1 x 9		
9	8	6

1 x 6		
5	1	6

1 x 8		
6	8	4

1 x 5		
5	10	2

Actividad#2. Indicaciones. Marque la opción correcta de cada enunciado. (4 pts,1 punto cada respuesta correcta).

1. Marque la opción que tiene el resultado correcto con la tabla del 1.

1 x 8		
6	8	4

1 x 5		
5	10	2

1 x 9		
9	8	6

1 x 6		
6	5	1

Actividad#2. Indicaciones. Marque la opción correcta de cada opción. (4 pts,1 punto cada respuesta correcta).

1. Marque la opción que tiene el resultado correcto con la tabla del 2.

2 x 6		
12	8	6

2 x 7		
16	10	14

2 x 3		
9	8	6

2 x 5		
15	10	5

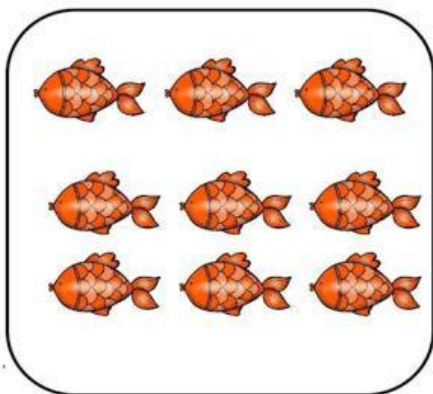
Actividad#4. Indicaciones. Seleccione la opción que muestra el **doble** correcto de cada operación. (3 pts,1 punto cada respuesta correcta).



EL DOBLE




EL DOBLE

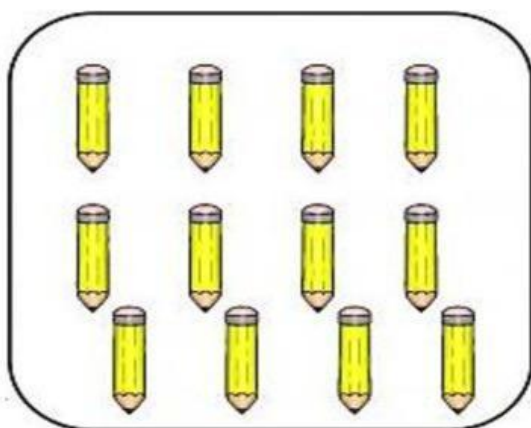


EL DOBLE


Actividad#4. Indicaciones. Seleccione la opción que muestra **la mitad** correcta de cada operación. (3 pts,1 punto cada respuesta correcta).



LA MITAD



LA MITAD



LA MITAD

Escala para calificar Estrategia de Matemáticas

Indicadores	No responde o no lo logra	1	2	3	4	5	6
Aplica estrategias para conocer los resultados de las tablas del 1 y 2.							
Reconoce las tablas del 1 y 2 por medio actividades lúdicas							
Identifica algunas de las tablas del 1 y 2 .							
Identificar el doble de un número menor que 10.							
Identificar la mitad de un número par menor o igual a 20.							
Calificación: 100 Total de puntos: 18 Porcentaje: 10%	Puntos:_____ Porcentaje:_____ Calificación:_____						