

LKPD LOGIKA INFORMATIKA

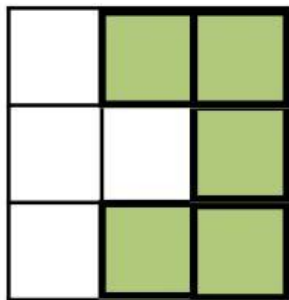
Nama :

Kelas : 9-


Petunjuk :

Rara melihat hiasan dinding dengan pola yang mempresentasikan logika dimana kotak hijau bernilai false dan kotak putih bernilai true. pola gambar tersebut menggunakan logika xor.

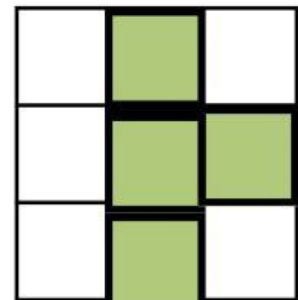
Bantulah Rara untuk mendapatkan pola F. Geser kotak hijau ke arah kotak F




A



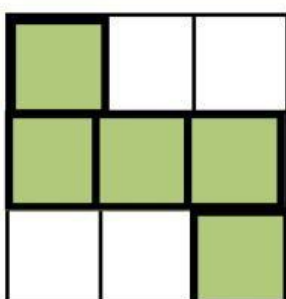
B



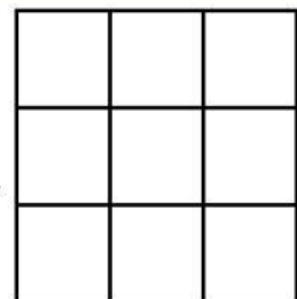
C



D



E



F

