

Nombre: \_\_\_\_\_

Profesor Examinador: Margarita Ferrada.

Fecha: \_\_\_\_/08/2025 62 pts

**OBJETIVO DE EVALUACIÓN**

**Objetivos de aprendizaje**

OA 1 Describir la civilización maya, considerando ubicación geográfica, organización política, actividades económicas, formas de cultivo y alimentos, organización de la sociedad, roles y oficios de hombres y mujeres, religión y ritos, desarrollo de la astronomía y la matemática, sistemas de escritura, guerras y sacrificios humanos, construcciones, costumbres y vida cotidiana, entre otros.

**INSTRUCCIONES**

Responde la siguiente evaluación con calma, revisando cada una de las preguntas y asegurándote que hayas respondido de acuerdo a lo que has aprendido. Recuerda que esta prueba es con nota, por lo que es importante que trabajes concentrado.

**I.- ITEM**

Localiza los lugares donde se localizaron los Aztecas, los Mayas, Los Incas, el océano Pacífico y el océano Atlántico. (2pts c/u)

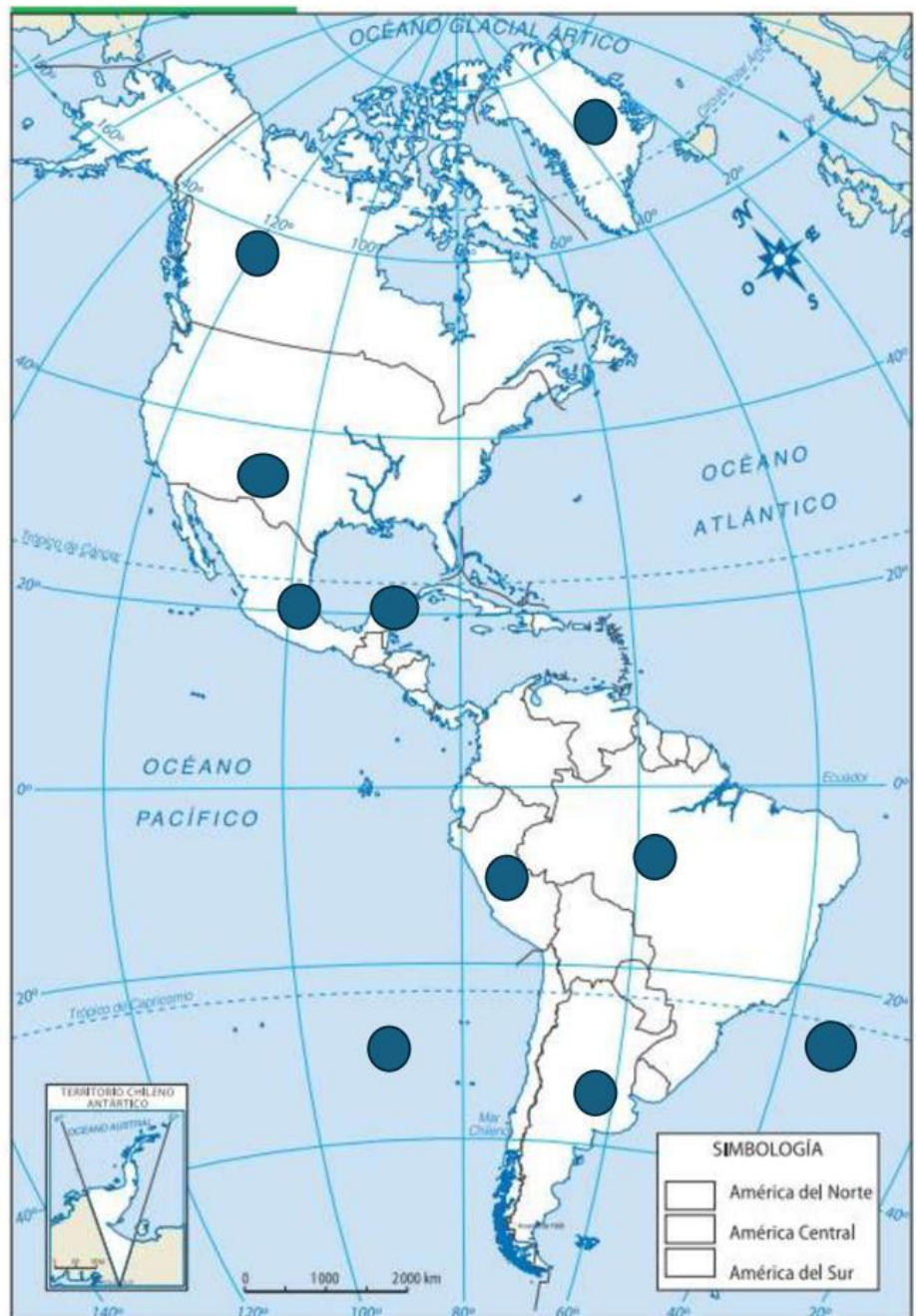
Imperio Azteca

Imperio Maya

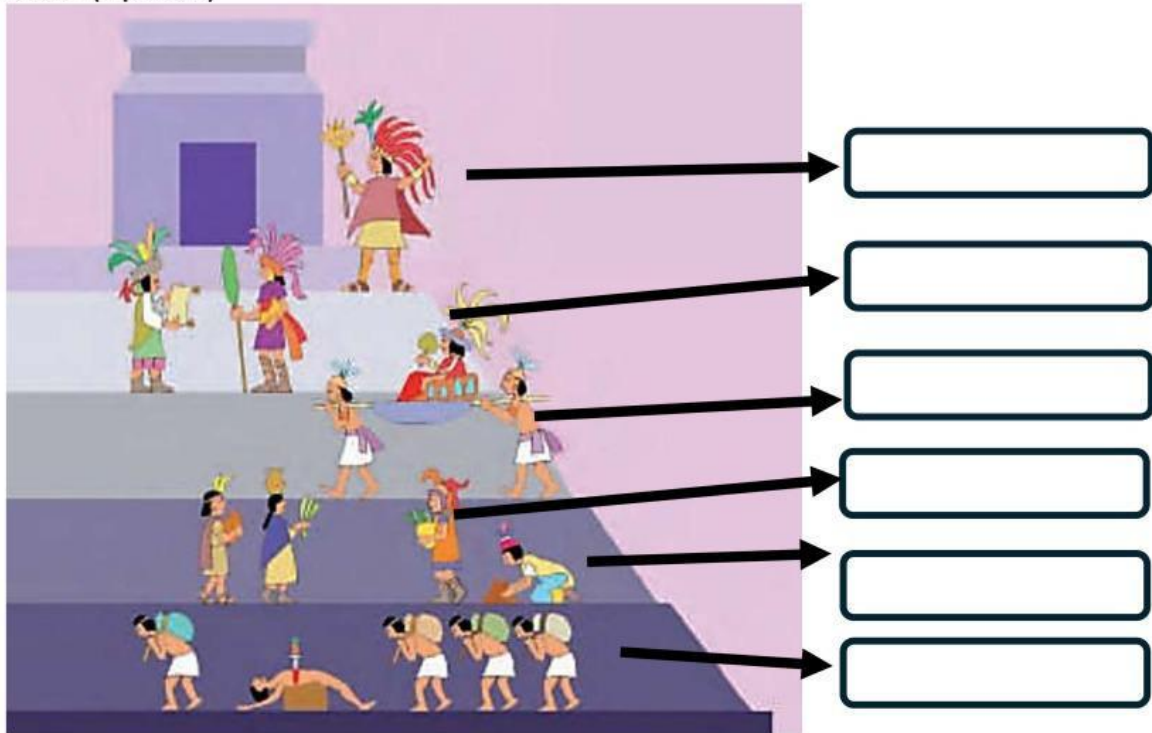
Imperio Inca

Océano pacífico

Océano Atlántico



II.- Observa la siguiente pirámide social maya. Luego ordena correctamente el orden de cada grupo social. (2 pts c/u)



Sacerdotes

Nobleza

Comerciantes

campesinos y artesanos

Esclavos

Halach Uinic

III. Une cada grupo social con la descripción de las labores que realizan sus miembros

Nobleza

Estaban compuestos por prisioneros de guerra, criminales condenados y personas que tenían deudas.

Comerciantes

Constituían la mayor parte de la población y trabajaban en las importantes labores agrícolas.

Campesinos

Tenían el poder político, militar y religioso. Entre sus miembros se encontraban los señores de las ciudades y sus familias, los sacerdotes, los altos cargos y los recaudadores de impuestos.

Esclavos

Estaban organizados en gremios, tenían sus propias leyes y eran el nexo entre la capital y las ciudades más lejanas.

IV.-Marca la alternativa correcta (2 pts c/u)

¿Cuál era el cultivo principal de los mayas?



A

Frijol

B

Calabaza

C

Maíz

D

Algodón

¿Cómo se llamaba el inframundo en la religión maya?



A

Tamoanchan

B

Cielo

C

Xibalbá

D

Paraíso

¿Por qué eran conocidos los mayas?



A

Arquitectura,  
escritura,  
matemáticas  
y astronomía

B

Navegación,  
comercio,  
metalurgia  
y ganadería

C

Caza, pesca,  
recolección  
y alfarería

D

Pintura, escultura,  
música y danza

¿Cuáles fueron los grandes avances de la civilización maya durante el Período Clásico?



A

La invención  
de la rueda  
y el hierro

B

La creación de  
la imprenta  
y el papel

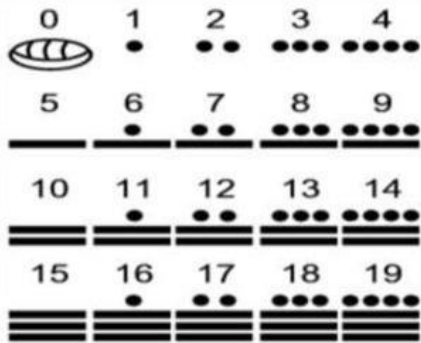
C

Las matemáticas,  
la astronomía y  
las artes visuales

D

El desarrollo  
de la pólvora  
y la brújula

¿Cuáles eran los tres signos principales del sistema de numeración maya?



A  
El círculo, el cuadrado y el triángulo

B  
El punto, la línea y el cero

C  
El punto, la raya y el caracol

D  
Los números, las letras y los símbolos

¿Cómo era la organización política de los mayas?



A  
Un solo imperio unificado

B  
Ciudades-estado independientes

C  
Un sistema de tribus nómadas

D  
Una monarquía absoluta

¿Quién ocupaba el puesto más alto en la sociedad maya?



A  
Los campesinos

B  
El Gobernante Supremo

C  
Los artesanos

D  
Los esclavos

¿Dónde se asentaron los aztecas?



A  
  
En la Meseta Central de México.

B  
  
En las montañas de los Andes.

C  
  
En la selva amazónica.

D  
  
En las costas del Atlántico.

¿Quiénes llegaron y pusieron fin al imperio azteca?



¿Qué tipo de climas abarcaba el imperio azteca?



¿Qué tipo de tribus eran los aztecas al principio?



¿Cómo era la religión de los aztecas?



¿Qué decisiones tomaba el Tlatocán o Consejo Supremo?



A  
Solo la educación  
de los niños.

B  
Solo asuntos  
religiosos.

C  
Asuntos políticos,  
militares y  
administrativos.

D  
Solo la  
recolección  
de tributos.

¿Cómo se llamaba la ciudad que fundaron los aztecas en el lago Texcoco?



A  
Teotihuacán.

B  
Tlatelolco.

C  
Tenochtitlán.

D  
Chichén Itzá.

¿Quién era la máxima autoridad política en el imperio azteca?



A  
El  
Gobernador  
Militar.

B  
El Tlatocán.

C  
El Calpullec.

D  
El Huey  
Tatloani.

¿Cuánto tiempo duró el imperio azteca?



A  
Desde 1325  
hasta 1520.

B  
Desde 1200  
hasta 1300.

C  
Desde 1520  
hasta 1800.

D  
Desde 1400  
hasta 1600.