



### TERCER BIMESTRE

**INDICACIONES:** A continuación, se te presenta una serie de enunciados con su concepto en la que debes unir con una flecha según consideres su respuesta correcta.

- |  |                               |
|--|-------------------------------|
| 1. Los planetas experimentan dos tipos de movimientos que son:             | Eclipse.                      |
| 2. El universo está formado por varios elementos como:                     | Galaxia, estrellas, planetas. |
| 3. Es el satélite natural de la tierra.                                    | Cuarto menguante.             |
| 4. Es el movimiento en el que los planetas giran alrededor del sol.        | Luna llena                    |
| 5. Es el astro más brillante y más grande del mismo.                       | Rotación                      |
| 6. Es el tercer planeta del sistema solar.                                 | La tierra                     |
| 7. Es el movimiento que realiza la tierra cuando gira sobre su propio eje. | El sol                        |
| 8. Es la fase de la luna que observamos totalmente iluminada               | Traslación                    |
| 9. En esta fase solo se puede ver la mitad izquierda de la luna            | Luna                          |
| 10. Es cuando la luna tapa totalmente al sol.                              | Rotación y traslación         |

**INDICACIONES:** Seleccione la respuesta correcta.

1) La tierra realiza 2 tipos de movimientos:

- |                                 |                        |                               |
|---------------------------------|------------------------|-------------------------------|
| <b>A) Rotación y traslación</b> | <b>B) Tierra y eje</b> | <b>C) Grasas y nutrientes</b> |
|---------------------------------|------------------------|-------------------------------|

2) Es la posición que ocupa la tierra en el sistema solar.

- |                        |                         |                        |
|------------------------|-------------------------|------------------------|
| <b>A) Primer lugar</b> | <b>B) Segundo lugar</b> | <b>C) Tercer lugar</b> |
|------------------------|-------------------------|------------------------|

3) La tierra está formada por:

- |                  |                   |                    |
|------------------|-------------------|--------------------|
| <b>A) 1 capa</b> | <b>B) 2 capas</b> | <b>C) 3 capas.</b> |
|------------------|-------------------|--------------------|

4) Las fases de la luna son:

- |                   |                   |                   |
|-------------------|-------------------|-------------------|
| <b>A) 4 fases</b> | <b>B) 2 fases</b> | <b>C) 3 fases</b> |
|-------------------|-------------------|-------------------|

5) Los días lluviosos es cuando hay mucho:

- |                  |                  |               |
|------------------|------------------|---------------|
| <b>A) Viento</b> | <b>B) Lluvia</b> | <b>C) Sol</b> |
|------------------|------------------|---------------|

6) Los recursos pueden ser:

A) Viento y sol

B) Rotación y traslación

C) Renovables y no renovables.

7) La cabecera de Escuintla es.

A) Guatemala

B) Escuintla

C) Cuilapa

8) La cabecera de Sacatepéquez es.

A) Flores

B) La Antigua Guatemala

C) Cobán

9) La tierra está formada por:

A) 10 planetas

B) 7 planetas

C) 8 planetas

10) El territorio de Guatemala está dividido en:

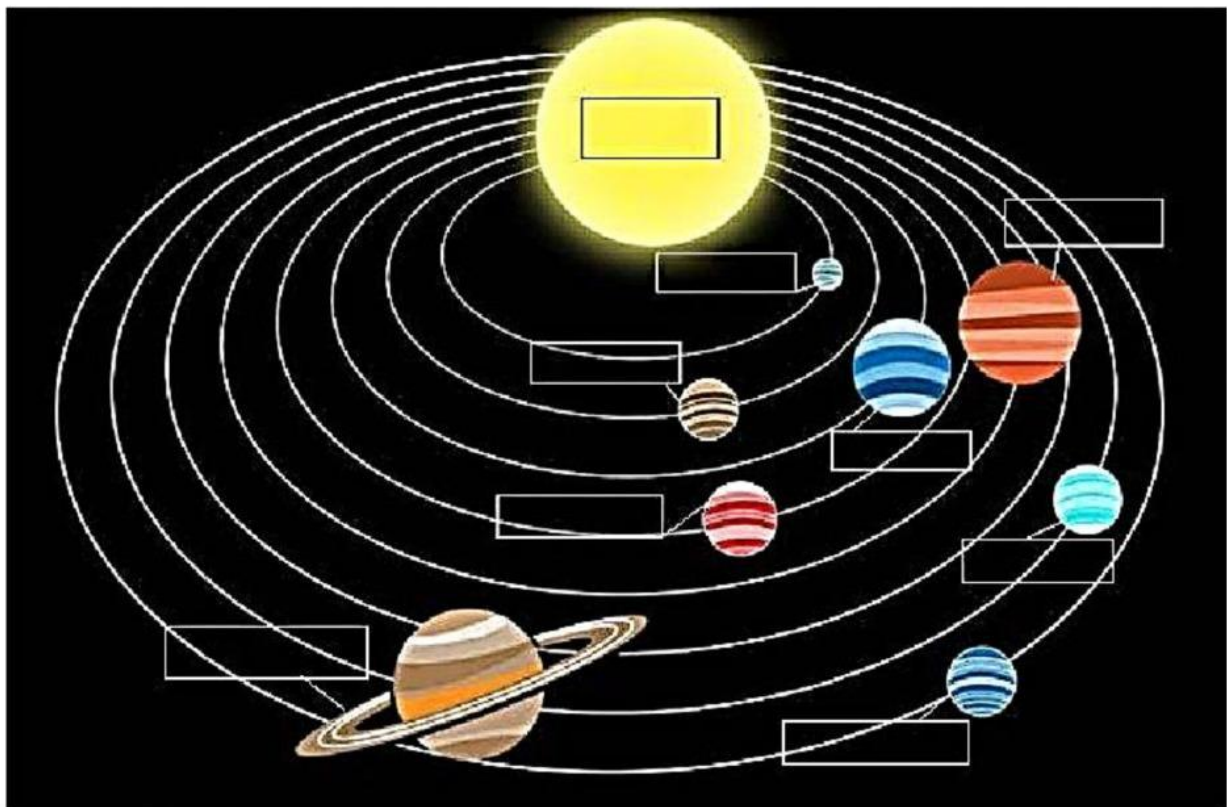
A) 22 departamentos

B) 12 departamentos

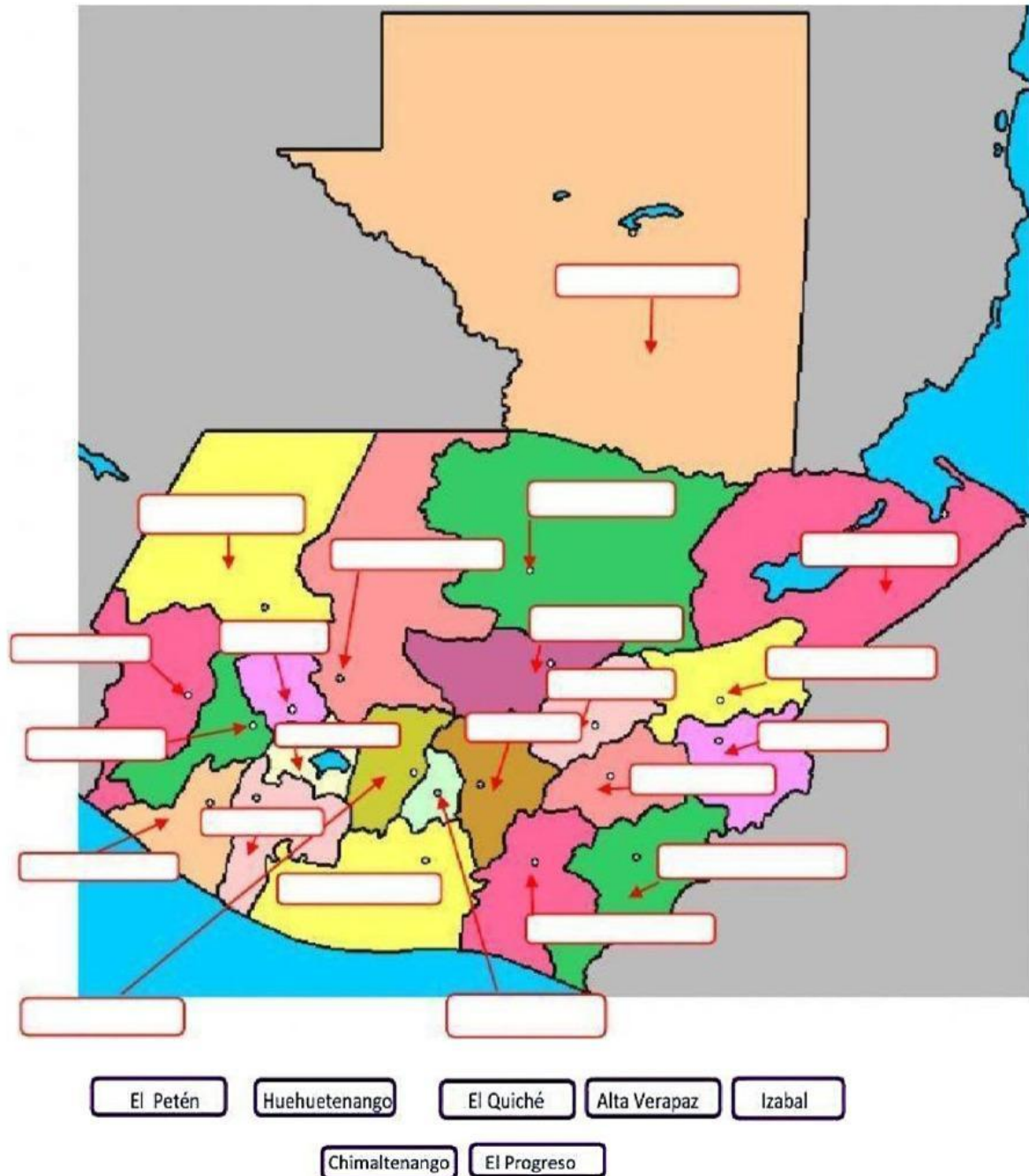
C) 24 departamentos

**INDICACIONES:** Arrastra el nombre de los planetas y colócalo en el lugar que le corresponde.

Sol -Júpiter – Venus – Mercurio –Neptuno– Saturno – Tierra – Urano – Marte



**INDICACIONES:** A continuación, se le presenta el mapa de Guatemala arrastrar el nombre de 7 departamentos y colócalo en el lugar que le corresponde.



**INDICACIONES:** Une la imagen de cada servicio con su respectivo nombre.



Servicio de luz

Servicio de teléfono



Servicio de  
recolector de basura



Servicio de agua

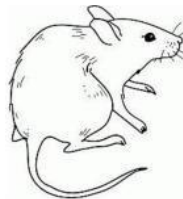


Servicio de bus




**INDICACIONES:** Arrastra los números en los círculos en cada dibujo según corresponde. arrastrar el nombre de 7 departamentos y colócalo en el lugar que le corresponde.

1. Tienen tallo grueso y ramas.
2. Es un animal que nos sirve de compañero.
3. Es un animal que es utilizado para probar los resultados de las medicinas.
4. Es un animal que su hábitat es el mar, río o lago.
5. Parte de la planta donde respira, transpira y elabora su alimento.







**INDICACIONES:** Seleccione correctamente el nombre de cada tiempo atmosférico según los símbolos que representa.




\_\_\_\_\_




\_\_\_\_\_



\_\_\_\_\_



\_\_\_\_\_



\_\_\_\_\_