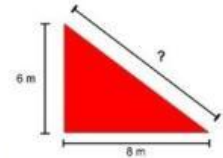
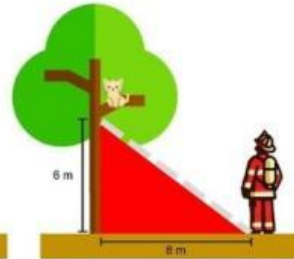
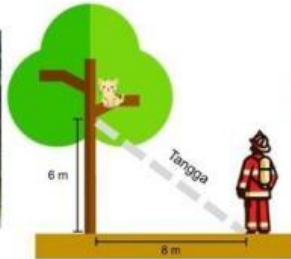




Ayo Mengamati

Amati Masalah Berikut



Di taman putri kaca mayang, terdapat seekor kucing yang terjebak di atas pohon setinggi 6 meter. petugas damkar datang untuk menyelamatkan kucing tersebut dengan menggunakan peralatan tangga, apabila jarak dari dasar pohon ke ujung tangga yang menyentuh tanah adalah 8 meter (lihat gambar di atas), maka berapakah panjang tangga yang dibutuhkan oleh petugas untuk menyelamatkan kucing tersebut?



Ayo Menanya

untuk memudahkanmu dalam menyelesaikan permasalahan tersebut diskusikanlah dengan teman kelompokmu mengenai yang diketahui dan ditanya

Diketahui

Ditanya



Ayo Mengumpulkan Informasi

Gunakan informasi dari halaman sebelumnya untuk menggambarkan model segitiga dan menyiapkan perhitungan!

1. Gambarlah segitiga berdasarkan cerita di halaman sebelumnya.
 - tandai sisi alas, tinggi dan sisi miring dari segitiga yang kamu buat
 - gunakan huruf di tiap sisinya untuk membantumu

