

I Parte. Evaluación de los contenidos conceptuales.

Escribe Si en el espacio del

enunciado cierto y NO en el espacio del enunciado falso. 5 puntos.

----- ¿Una hora tiene 30 minutos?

_____ ¿Un día tiene 24 horas?






_____ ¿El reloj se usa para medir el tiempo?

_____ ¿Las manecillas del reloj son: minuterio, segundero y horario?

_____ ¿La Manecilla más pequeña del reloj nos indica los minutos?

II Parte. Evaluación de los contenidos conceptuales.

Observa el reloj y colorea la hora correcta en cada rectángulo. 10 puntos.

	<div>3:35</div> <div>1:35</div> <div>4:20</div>		<div>2:40</div> <div>8:10</div> <div>8:15</div>
	<div>10:30</div> <div>10:50</div> <div>6:50</div>		<div>5:00</div> <div>3:20</div> <div>4:15</div>
	<div>10:30</div> <div>5:55</div> <div>11:25</div>		

IV Parte. Evaluación de la reflexión sobre los aprendizajes adquiridos y análisis y comentario de texto. 25 puntos.

- Lee el texto completo.



¡Hola! Me llamo Samuel. Tengo 6 años y vivo en Santiago. Hoy te cuento cómo es un día normal para mí.

Me levanto a las 6:15 y enseguida me cepillo los dientes. Después me baño, me visto y desayuno con mi mamá. Me gusta comer huevos y pan con queso.

Salgo para la escuela a las 7:00. Las clases empiezan a las 7:30 y a las 9:30 tenemos recreo. Me gusta jugar y compartir con mis amigos.

Salgo de clases a la 1:00 de la tarde. Al llegar a casa almuerzo y descanso un rato. A las 3:00 practico natación y luego hago mis tareas.

En la noche, ceno con mi familia, me cepillo los dientes y me acuesto a las 8:00.

¡Ese es mi día! ¿Y el tuyo?

1. Escribe 5 actividades que hace Samuel durante el día. (5 puntos).

1. _____
2. _____
3. _____
4. _____
5. _____

III Parte. Evaluación de la aplicación de los contenidos aprendidos.

Escribe la hora correcta. 20 puntos.



:

:



:

:



:

:



:

:



:

:



:

:



:

:



:

:



:

:



:

:

I Parte. Evaluación de los contenidos conceptuales.

Escribe Si en el espacio del

enunciado cierto y NO en el espacio del enunciado falso. 5 puntos.

----- ¿Una hora tiene 30 minutos?

_____ ¿Un día tiene 24 horas?






_____ ¿El reloj se usa para medir el tiempo?

_____ ¿Las manecillas del reloj son: minuterio, segundero y horario?

_____ ¿La Manecilla más pequeña del reloj nos indica los minutos?

II Parte. Evaluación de los contenidos conceptuales.

Observa el reloj y colorea la hora correcta en cada rectángulo. 10 puntos.

	<div>3:35</div> <div>1:35</div> <div>4:20</div>		<div>2:40</div> <div>8:10</div> <div>8:15</div>
	<div>10:30</div> <div>10:50</div> <div>6:50</div>		<div>5:00</div> <div>3:20</div> <div>4:15</div>
	<div>10:30</div> <div>5:55</div> <div>11:25</div>		