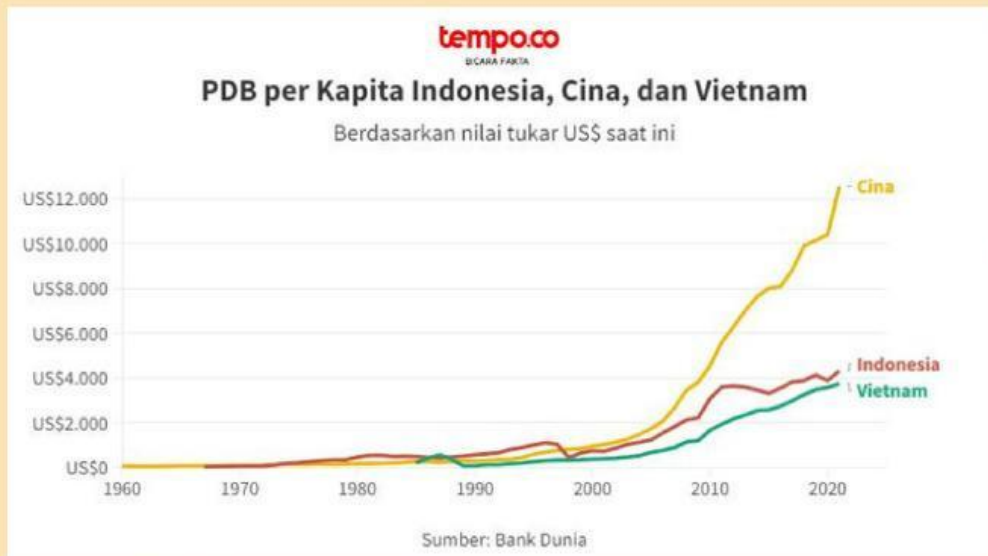


# Pendapatan Perkapita

Nama: \_\_\_\_\_

Kelas: \_\_\_\_\_



1. Berdasarkan grafik diatas, pada rentan tahun 1990 - 2000 pendapatan perkapita Indonesia lebih tinggi daripada Cina. Carilah literatur alasan penyebab mengapa Indonesia pernah melampaui negara Cina pada rentan tahun tersebut!

2. Mengapa Indonesia tidak bisa mempertahankan nilai pendapatan perkapitanya dan cenderung fluktuatif pada tiap tahunnya?

3. Bagaimana Cina bisa memiliki pendapatan perkapita yang selalu naik? Apakah Indonesia bisa setara dengan Cina di tahun 2025 nanti?

- Jika bisa, bagaimana caranya?
- Jika tidak bisa, mengapa?

## Menghitung Pendapatan Per Kapita

Hitunglah pendapatan per kapita tiap negara. Tuliskan hasil perhitungannya kemudian urutkan dari negara paling sejahtera sampai tidak sejahtera!

Negara Raib

GDP	\$320,000
Jumlah Penduduk	800 Jiwa

Negara Langka

GDP	\$2,320,000
Jumlah Penduduk	4.000 Jiwa

Negara Sirna

GDP	\$760,000
Jumlah Penduduk	2.000 Jiwa



## Lingkari jawaban yang benar!



1. Semakin **jauh** jarak garis kurva Lorenz dengan garis diagonal (garis pemerataan), maka semakin...

MERATA




TIDAK MERATA

2. Semakin **dekat** jarak garis kurva Lorenz dengan garis diagonal (garis pemerataan), maka semakin...

MERATA

TIDAK MERATA

## Urutkan negara dari yang paling sejahtera - tidak sejahtera! (drag & pindahkan gambar)



## Pasangkan pernyataan dengan jawaban yang tepat! (tarik garisnya)

Indeks yang digunakan untuk mengukur tingkat ketimpangan distribusi pendapatan



Sangat timpang



Grafik yang menggambarkan tingkat ketidakmerataan distribusi pendapatan



Ketimpangan sedang



Nilai Gini 0,3 - 0,5



Sangat merata



Nilai Gini = 1



Koefisien Gini



Nilai Gini > 0,5



Kurva Lorenz




Nilai Gini = 0



Ketimpangan tinggi



## Ketimpangan Ekonomi



### MENDATAR

(2) Pemerintah menggencarkan pemerataan infrastruktur khususnya di laur pulau jawa. Hal ini menunjukkan pemerintah sedang berusaha untuk mengatasi ketimpangan ekonomi di bidang...

(3) Jumlah masyarakat di Indonesia tidak sebanding dengan lapangan kerja yang tersedia. Hal ini menyebabkan ketimpangan dalam bidang...

(4) Jumlah konsumsi masyarakat berbeda-beda dikarenakan UMR tiap kota juga berbeda. Perbedaan konsumsi ini dapat menyebabkan salah satu ketimpangan ekonomi di bidang...

(5) Dian adalah siswa pindahan dari sekolah negeri di desa bojong soang, ia pindah ke sekolah negeri jakarta dan merasa selalu tertinggal dalam belajar. Hal ini menunjukan adanya ketimpangan ekonomi di bidang...

### MENURUN

(1) Pulau Jawa adalah pulau terpadat penduduk di Indonesia sehingga pemerintah menggencarkan program migrasi. Upaya ini dilakukan pemerintah agar mencegah ketimpangan ekonomi di bidang...