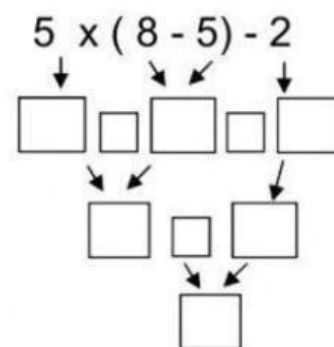
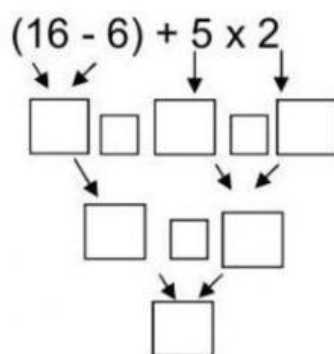
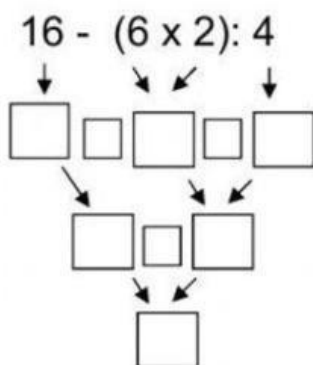
	EXAMEN DE UNIDAD III	Grado:	Cuarto Primaria
		Área curricular:	Matemática
Valor unidad 30pts.		Tutor:	Astrid Morales
Nombre:	Fecha:		

Instrucciones Generales:

Como parte del proceso de enseñanza-aprendizaje es necesario evaluar los conocimientos adquiridos por el alumno, de manera que se solicita que lea, responda y realice lo que a continuación se le presenta.

I SERIE

Resuelva las siguientes operaciones combinadas.



II SERIE

En las siguientes casillas arrastra los números primos y compuestos de forma ordenada.

23	100	71	22
2	95	5	37
11	70	85	7
12	9	3	35

PRIMO		COMPUESTO	
<input type="text"/>	<input type="text"/>	<input type="text"/>	<input type="text"/>
<input type="text"/>	<input type="text"/>	<input type="text"/>	<input type="text"/>
<input type="text"/>	<input type="text"/>	<input type="text"/>	<input type="text"/>
<input type="text"/>	<input type="text"/>	<input type="text"/>	<input type="text"/>

III SERIE

Relacione los triángulos según su clasificación por lados y por ángulos.

Equilátero	Dos lados iguales
Acutángulo	Tres lados desiguales
Escaleno	Tres ángulos agudos
Rectángulo	Tres lados iguales
Isósceles	Un ángulo obtuso
Obtusángulo	Un ángulo recto

IV SERIE

Coloque el nombre de cada una de las partes de la fracción, así como su función.

The diagram shows the fraction $\frac{1}{2}$ with a blue numerator '1' and a pink denominator '2'. A red arrow points from the numerator to a yellow box, and another red arrow points from the denominator to another yellow box. To the left of the fraction is a grey square, and to the right is another grey square. Text boxes explain the parts: 'Indica el número de partes en que se divide la unidad o entero.' for the numerator and 'Indica el número de partes que se toman de un entero.' for the denominator. Labels 'Numerador' and 'Denominador' are also present.

Indica el número de partes en que se divide la unidad o entero.

Numerador

Indica el número de partes que se toman de un entero.

Denominador

V SERIE

Observe los gráficos y escriba la fracción que representa.

