

PROBLEMAS DE IGUALACIÓN 1 Y 2

2. Fátima y David tienen gallinas en su granja.



Fátima

Tengo 9 gallinas en mi granja.

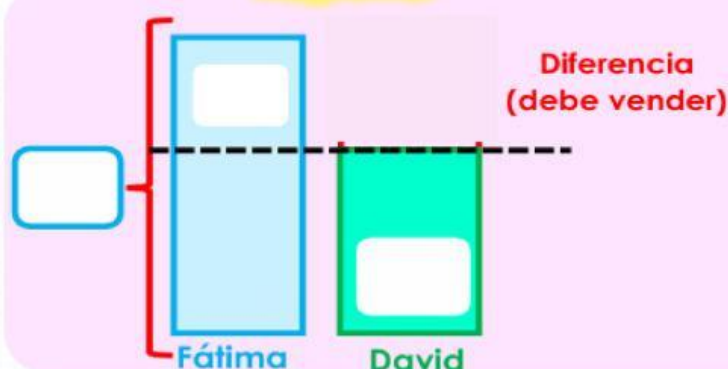
Yo tengo 6 gallinas.



David

¿Cuántas gallinas debe vender Fátima para tener **tantas como** David?

Esquema



Operación

D	U

Fátima debe vender para tener **tantas como** David.

3. Pepe y Lucy ahorraron dinero.



Pepe

Ahorré 14 soles durante el mes.

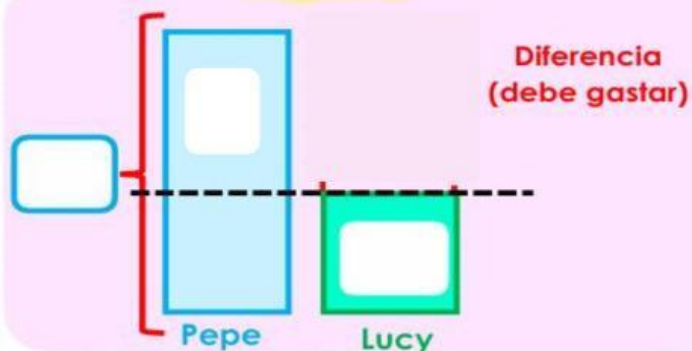
Yo ahorré 8 soles.



Lucy

¿Cuánto dinero debe gastar Pepe para tener **tantas como** Lucy?

Esquema



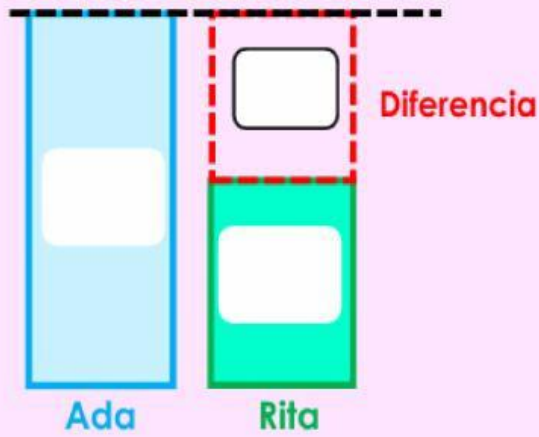
Operación

D	U

Pepe debe gastar para tener **tantas como** Lucy.


9. Ada compró 19 panes para el desayuno. Rita compró 13 panes ¿Cuántos panes le falta a Rita para tener lo mismo que Ada?

Esquema



Operación

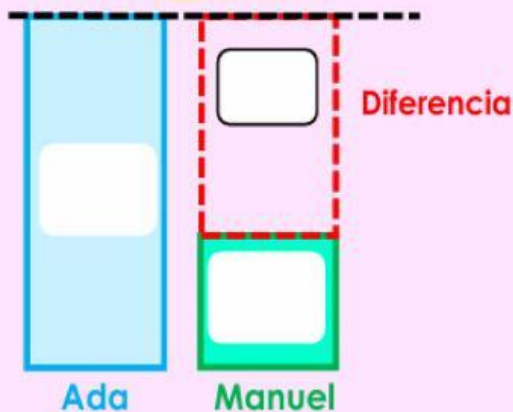
D	U



A Rita le falta panes para tener **lo mismo** que Ada.

10. Ada sembró 36 zanahorias en el huerto de la escuela. Manuel sembró 16 zanahorias ¿Cuántas zanahorias le falta sembrar a Manuel para tener igual que Ada?

Esquema



Operación

D	U



A Manuel le falta sembrar más para tener **igual que** Ada.