

# LEMBAR KERJA SISWA

## Penjumlahan dan Pengurangan Bilangan Bulat

Nama :

Kelas :

No. Absen :

### Materi 1

Silakan klik di sini

### Materi 2

Silakan klik di sini

### Textfield

1. Proses fotosintesis pada tumbuhan berlangsung di organel bernama .....

2. Gas yang dihasilkan tumbuhan dari proses fotosintesis dan sangat dibutuhkan manusia adalah ....

### Single Choice

1. Proses fotosintesis membutuhkan cahaya matahari, air, dan gas .....

2. Hasil utama fotosintesis yang digunakan tumbuhan sebagai sumber energi adalah .....

### Select

1. Pilihlah bahan yang diperlukan dalam proses fotosintesis! .....

☐

Air (H<sub>2</sub>O).

☐

Oksigen (O<sub>2</sub>)

☐

Cahaya matahari.

☐

Karbon dioksida (CO<sub>2</sub>).

2. Hasil utama dari proses fotosintesis adalah ....

☐

Energi cahaya

☐

Oksigen.

☐

Glukosa.

☐

Protein

### Checkbox

1. Manakah pernyataan berikut yang benar tentang fungsi hidung dalam sistem pernapasan?

☐

Menyaring udara yang masuk.

☐

Mengatur suhu udara yang masuk.

☐

Tempat pertukaran gas

☐

Melembapkan udara yang masuk.

2. Organ-organ berikut termasuk dalam saluran pernapasan manusia, yaitu ...

☐

Hidung

☐

Trakea

☐

Faring


☐

Trakea

☐

Esofagus



Carilah jawaban dalam kotak untuk menjawab pertanyaan-pertanyaan di bawah ini ! 

U	V	D	S	K	W	A	D	O	T	H	U	D	M	W
T	W	K	A	V	R	C	J	V	U	T	N	O	A	N
J	R	H	Z	U	S	O	J	E	B	S	I	M	H	V
Z	O	G	Z	Y	N	U	Y	E	P	Q	Q	E	K	H
F	K	O	S	A	X	E	T	W	Q	H	S	P	O	F
R	S	J	O	U	U	B	L	T	E	P	F	A	T	D
A	I	K	L	X	P	D	I	V	U	N	V	C	A	T
F	G	M	J	Y	W	X	O	T	D	W	S	C	I	J
E	E	R	T	R	H	C	I	M	I	G	M	W	N	N
C	N	U	N	I	T	K	D	S	T	A	T	E	S	G
W	U	G	E	A	G	J	N	P	T	T	K	R	G	Z
F	C	G	L	R	Q	S	A	B	I	J	Q	J	Z	V
S	Z	N	F	O	T	O	S	I	N	T	E	S	I	S
S	X	O	P	J	N	T	W	T	J	E	C	F	G	B
I	I	P	E	N	Y	E	R	B	U	K	A	N	W	M

1. Tumbuhan memproduksi makanan sendiri, yang disebut dengan .....
2. Tempat tumbuhan berfotosintesis adalah .....
3. Tumbuhan berfotosintesis menghasilkan karbohidrat dan .....
4. Bagian bunga yang berwarna indah dan menarik adalah .....
5. Alat kelamin betina pada bunga disebut .....
6. Tumbuhan berbunga berkembangbiak dengan cara .....

## Speak

1. Melaksanakan salat wajib sehari semalam sebanyak ..... waktu.



**Klik untuk merekam !**

2. Menunaikan ibadah ..... ke Baitullah bagi yang mampu.



**Klik untuk merekam !**

## Listening

1. Dengarkan suara berikut, kemudian tuliskan jawabannya pada kotak yang sudah disiapkan.



**Klik untuk mendengarkan suara !**

2. Dengarkan suara berikut, kemudian tuliskan jawabannya pada kotak yang sudah disiapkan.



**Klik untuk mendengarkan suara !**



## Drag and Drop

Pasangkan gambar Pahlawan Nasional di bawah ini sesuai dengan nama!



K.H.Hasyim Asy'ari

K.H. Achmad Dahlan

Raden Mas Antawirya

Tuanku Imam Bonjol

Silahkan isi bagian yang kosong dengan mendrag kata-kata dibawah ke tempat yang benar sehingga menjadi naskah proklamasi yang benar

### PROKLAMASI

Kami  Indonesia dengan ini menjatakan  
kemerdekaan  . Hal-hal jang mengenai  
 kekoeasaan d.l.l., diselenggarakan  
dengan tjara seksama dan dalam  jang  
sesingkat-singkatnja.

Djakarta, hari 17 boelan 8 tahoen 05  
Atas nama bangsa Indonesia.  
Soekarno/Hatta.

tempo

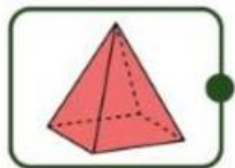
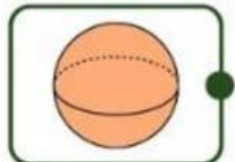
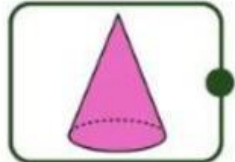

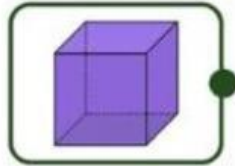
pemindahan

Indonesia

bangsa

## Mengenali Bangun Ruang

Hubungkan gambar dengan nama yang sesuai!



TABUNG

BOLA

KUBUS

LIMAS

KERUCUT