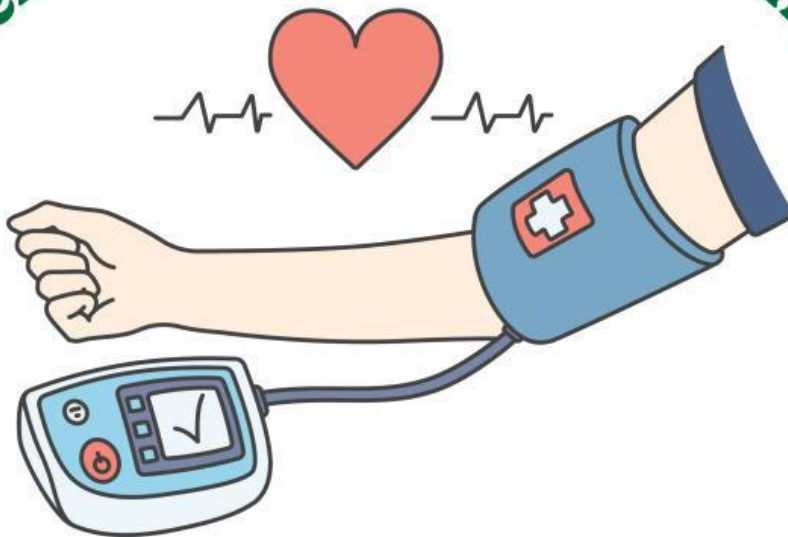


# LKPD

## Gangguan pada Sistem Peredaran Darah Manusia




Kelompok: \_\_\_\_\_

Nama Anggota:



## PETUNJUK PENGGUNAAN

- 
- Berdoalah sebelum mengerjakan LKPD ini.
  - Tulislah nama dan kelompok belajarmu pada kolom yang sudah disediakan pada bagian cover.
  - Bacalah dengan teliti petunjuk pengerjaan sebelum mengerjakan LKPD
  - Tanyakan kepada guru apabila ada hal-hal yang kurang dipahami terkait dengan materi.
  - Kerjakan kegiatan sesuai dengan petunjuk yang ada.



# CAPAIAN PEMBELAJARAN

Peserta didik dapat mendeskripsikan atom dan senyawa sebagai unit terkecil penyusun materi serta sel sebagai unit terkecil penyusun makhluk hidup, mengidentifikasi sistem organisasi kehidupan serta melakukan analisis untuk menemukan keterkaitan sistem organ dengan fungsinya serta kelainan atau gangguan yang muncul pada sistem organ tertentu (sistem pencernaan, sistem peredaran darah, sistem pernafasan dan sistem reproduksi).

# TUJUAN PEMBELAJARAN

1. Melalui studi kasus dan diskusi, peserta didik dapat mengidentifikasi jenis gangguan yang terjadi pada sistem peredaran darah dengan tepat.
2. Melalui studi literatur dan diskusi, peserta didik dapat menganalisis ciri-ciri, dampak gangguan pada sistem peredaran darah, serta cara menjaga kesehatan sistem peredaran darah dengan baik.





# ORIENTASI MASALAH


Perhatikan data berikut!



Tuliskan pendapat kalian terkait data kasus hipertensi di Indonesia tersebut pada kolom disamping!

# STUDI KASUS 1

Scan barcode berikut untuk mengakses studi kasus kelompok kalian!



## STUDI KASUS 2

Scan barcode berikut untuk mengakses studi kasus kelompok kalian!






## STUDI KASUS 3

Scan barcode berikut untuk mengakses studi kasus kelompok kalian!



## STUDI KASUS 4

Scan barcode berikut untuk mengakses studi kasus kelompok kalian!






## MENGEMBANGKAN HASIL

Setelah membaca studi kasus, carilah sumber informasi terkait gangguan pada sistem peredaran darah yang didapatkan oleh kelompokmu dan catatlah informasi yang didapatkan pada tabel data hasil berikut ini!

Nama Penyakit	
---------------	--

Definisi	Tempat Terjadi	Penyebab	Dampak bagi Tubuh
			

## MENGEMBANGKAN HASIL

Jawablah pertanyaan di bawah ini dengan berdiskusi!

1. Apa penyebab utama pada gangguan sistem peredaran darah?

2. Bagaimana gejala yang dapat diamati dari gangguan sistem peredaran darah yang diamati?

## MENGEMBANGKAN HASIL

Jawablah pertanyaan di bawah ini dengan berdiskusi!

3. Apa dampak dari gangguan tersebut terhadap fungsi sistem peredaran darah dan kesehatan tubuh?

- Bagaimana upaya pencegahan yang dapat dilakukan
4. untuk mengurangi risiko terjadinya gangguan tersebut?



## KESIMPULAN

Buatlah kesimpulan pada kolom di bawah ini!

THANK  
YOU!