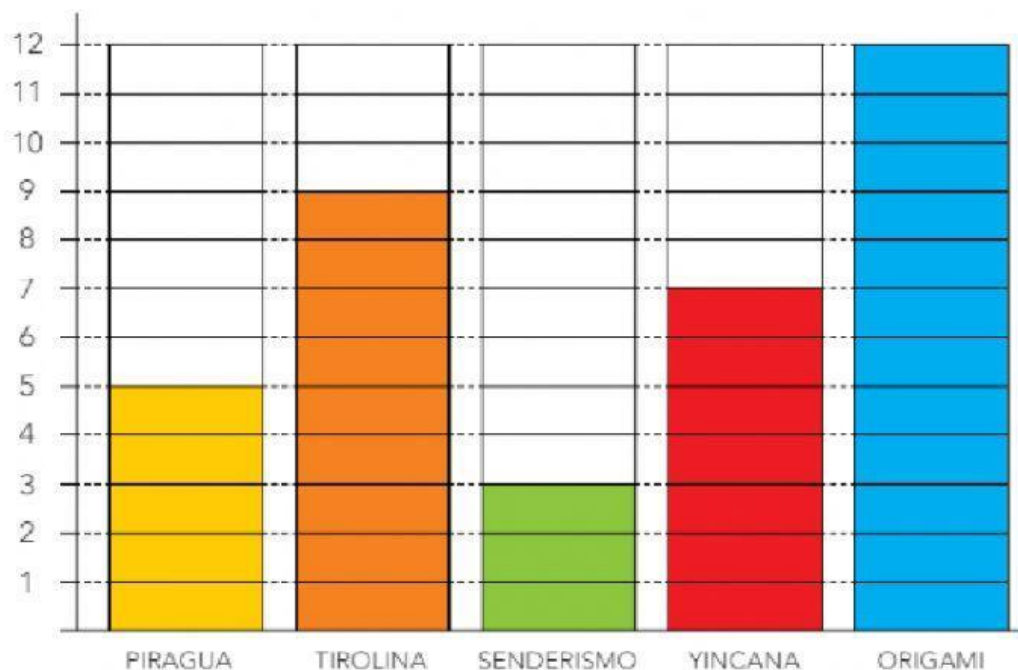


## Ficha matemáticas: Gráfico de barras







Marta anota en este gráfico cuántas veces ha realizado cada actividad en el campamento.



- ¿En cuántas yincanas ha participado Marta?
- ¿Qué actividad ha realizado menos veces?
- ¿Cuántas veces ha hecho piragua más que senderismo?
- ¿Y senderismo menos que tirolina?
- Si todos los días tenía taller de origami, ¿cuántos días duró el campamento?

- 2** Esto es lo que llevaban las monitoras y los monitores en las excursiones. Cuénta y completa la tabla.



- 3** Representa los datos de la tabla anterior en este gráfico.

