




HALLAMOS EL PERÍMETRO

Lee la siguiente situación:

La I.E. 7048 "Manuel Montero Bernales" ha recibido la señalización de zonas seguras de diferentes tamaños para que identifiquen y peguen en las zonas seguras en el caso de que no puedan evacuar ante un sismo. Ante esto, los estudiantes del 4° C, tienen la siguiente inquietud, ¿Cuál de las siguientes señales tiene el mayor perímetro?




A

20 cm



40 cm



B

30 cm



50 cm



C

20 cm



50 cm

Hallamos el perímetro de cada figura:

El perímetro de la figura A es: Cm

El perímetro de la figura B es: Cm

El perímetro de la figura C es: cm



Respondemos ¿Cuál es la figura con mayor perímetro?

Observa las siguientes imágenes y halla el perímetro de cada obra de arte.

Cuadro 1

32 cm

18 cm



Cuadro 2

48cm

48cm

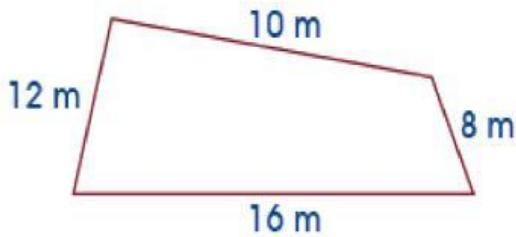


PERÍMETRO DEL CUADRO 1 ES: cm

PERÍMETRO DEL CUADRO 2 ES: cm

Halla el perímetro de las siguientes figuras.

María desea construir una pared en un terreno, con las siguientes dimensiones:



Hallamos la suma de los lados:

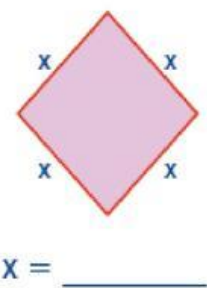
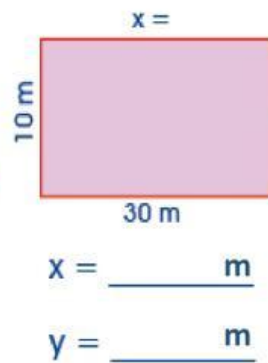
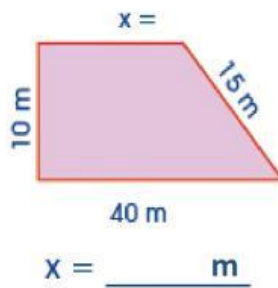
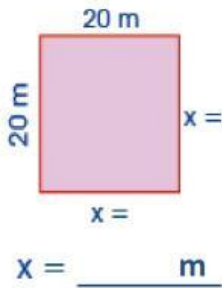
$$\underline{12} + \underline{16} + \underline{10} + \underline{8}$$

$$p = \underline{\hspace{2cm}} \text{ m.}$$

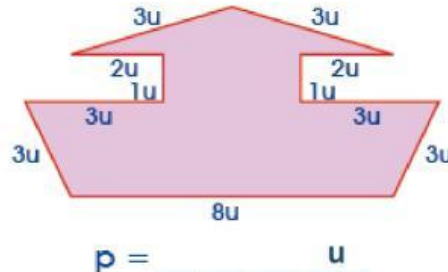
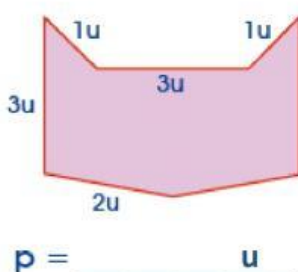
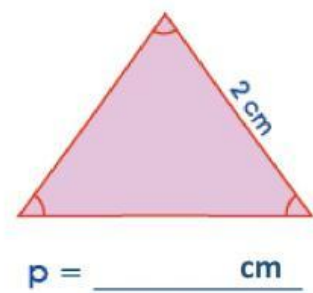
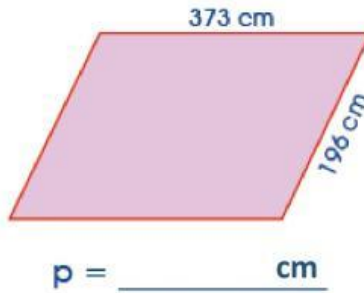
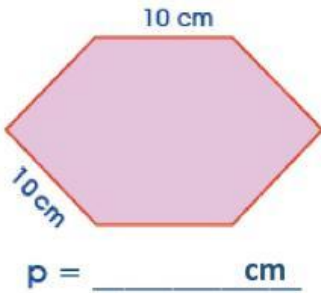
El perímetro (p) de una figura cualquiera es igual a la suma de sus lados.

¡Ahora, hazlo tú!

1. ¿Cuánto deben medir los lados que faltan para que el perímetro de cada figura sea 80 m?



2. Calcula el perímetro de las siguientes figuras:



ENCUENTRA LAS PALABRAS RELACIONADAS A PERÍMETRO:

T	Z	Ü	X	O	M	Ñ	K	L	Ñ	M	H	E	É	Ü	H
R	E	G	Á	T	Q	R	T	R	Í	É	E	A	Z	Ü	O
I	V	O	Í	R	O	L	U	G	N	Á	T	C	E	R	A
Á	L	R	D	N	Ñ	I	L	M	Ú	D	M	G	Q	V	Y
N	X	T	I	Ó	O	I	H	J	U	G	L	Ó	Ü	Í	V
G	Ü	E	É	K	N	J	M	S	D	E	O	S	R	R	V
U	Ñ	M	Q	N	O	H	R	G	N	D	N	É	M	Ñ	A
L	D	Í	S	É	G	T	H	B	C	R	G	P	M	U	X
O	T	R	Y	Á	Í	V	É	O	A	V	I	Ó	C	S	Ü
L	G	E	R	Á	L	E	F	D	É	U	T	Ó	U	X	Á
A	O	P	É	É	O	W	I	T	T	N	U	M	A	O	Ü
M	R	G	W	Í	P	D	B	R	X	H	D	Q	D	G	N
U	A	U	P	J	E	S	G	Q	B	Ü	Ó	X	R	L	G
W	M	M	G	M	D	F	Í	J	A	R	Ñ	K	A	A	V
Á	U	Q	Y	I	R	R	X	Í	P	E	J	U	D	D	I
Í	S	K	V	L	F	S	W	Í	M	X	É	Á	O	O	Q

Perímetro

Lado

Suma

Figura

Rectángulo

Triángulo

Cuadrado

Medida

Polígono

Longitud