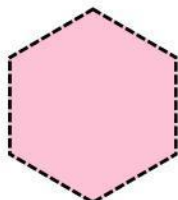

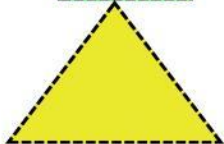

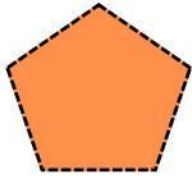



ACTIVIDAD DE MATEMÁTICAS

Nombre:

Fecha:

1: Recorta las figuras geométricas y pegar donde corresponda



Rombo

Hexágono

Cuadrado

Octago

Rectángulo

triangulo

Círculo

Pentagono

2:Colocar las figuras geométricas en el casillero correspondiente

