


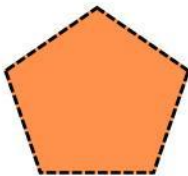
ACTIVIDAD DE MATEMÁTICAS


Nombre: _____

Fecha: _____

1: Recorta las figuras geométricas y pegar donde corresponda







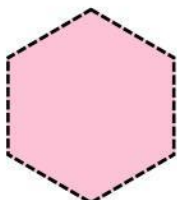












Rombo

Hexágono

Cuadrado

Polígono

Rectángulo

triangulo

Círculo

Pectagono

ACTIVIDAD DE MATEMÁTICAS

2: Colocar las figuras geométricas en el casillero correspondiente

