



# ESCOLA MUNICIPAL "JUDITH AUGUSTA FERREIRA"

Av. TIRADENTES, 46 – DOM OSCAR – CONGONHAS – MG- TELEFONE: 3731-1057

## AVALIAÇÃO DIAGNÓSTICA DE MATEMÁTICA– 1º Trimestre

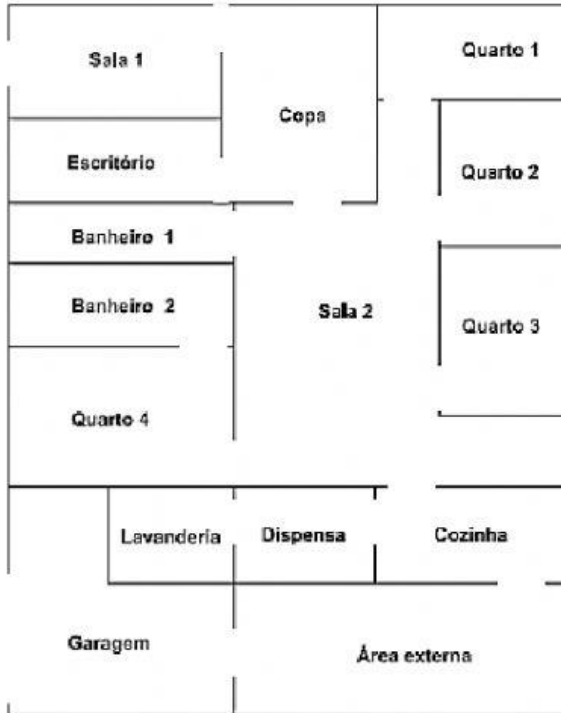


Nome: \_\_\_\_\_

Professora. *Adriane Aline* PROFESSORA DE APOIO ESPECIALIZADO

### H13 Questão 01

(SAEMI - PE). O desenho abaixo representa a planta de uma casa.




De acordo com essa planta, qual é o cômodo que está mais longe da cozinha?

- A) Sala 1.
- B) Quarto 2.
- C) Dispensa.
- D) Banheiro 1.

### H10 Questão 02

(SAEMI - PE). Observe as 20 chaves de fenda da coleção de Francisco.



Quantos grupos de 5 chaves de fenda podem ser formados usando essas chaves?

- A) 25
- B) 10
- C) 5
- D) 4

### Questão 03

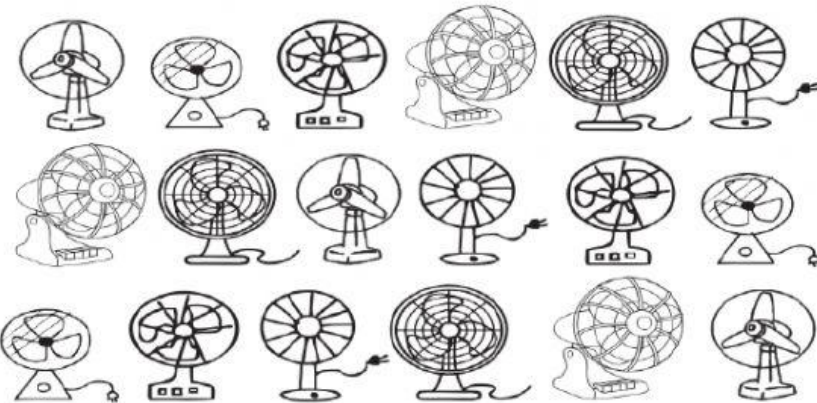


Marina comprou uma blusa por R\$ 27,00 e uma calça por R\$ 157,90 e um cinto por R\$ 25,00. Se Marina tinha em sua carteira R\$ 250,00. Quanto sobrou?

R: Sobrou \_\_\_\_\_ na carteira de Marina.

**H1 Questão 04**

(SAEMI - PE). Observe abaixo a quantidade de ventiladores que José consertou em uma semana de trabalho.



Quantos ventiladores José consertará em três semanas como esta?

**H9 Questão 05**

(SAEMI - PE). Observe abaixo a conta que a professora Ana escreveu no quadro.

**4 x 123**

Qual é o resultado dessa conta? \_\_\_\_\_

**Questão 06**

(SAEMI - PE). Observe abaixo a receita de bolo de chocolate que Joana tem.

**Bolo de Chocolate**

Ingredientes

3 xícaras de farinha de trigo

2 xícaras de açúcar

1 xícara de leite

6 colheres de sopa cheias de chocolate em pó

1 colher de sopa de fermento em pó

7 ovos



a) Quantos ovos são usados para preparar dois bolos com essa receita?

Serão usados \_\_\_\_\_ ovos.

b) Se eu for preparar quatro vezes esta receita de quantas colheres de chocolate em pó vou precisar?

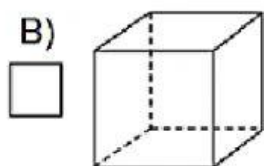
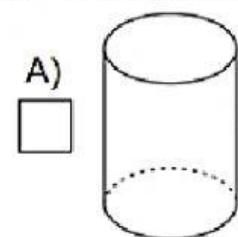
Você vai precisar de \_\_\_\_\_ colheres de chocolate.

c) Joana irá preparar cinco bolos. Mas ela não sabe quantas xícaras de farinha irá precisar. Descubra você.

Joana irá precisar de \_\_\_\_\_ xícaras de farinha.

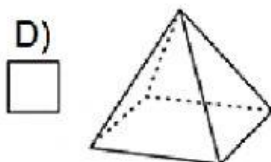
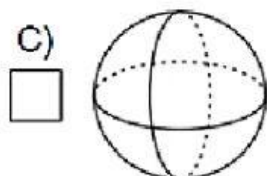
**Questão 07**

Associe cada figura geométrica ao nome.



( 1 ) pirâmide

( 2 ) cilindro



( 3 ) esfera

( 4 ) cubo

**Questão 08**

(SAEMI - PE). Observe abaixo o desenho de uma lixeira.



Esse desenho lembra qual forma geométrica?

(A) pirâmide

(B) cilindro.

(C) esfera

(D) cubo.

**Questão 09**

(SAEMI - PE). José vai viajar de férias para a praia. Ele comprou a passagem para essa viagem com dois meses de antecedência. José comprou essa passagem com quantos dias de antecedência?

A) 14

B) 20

C) 48

D) 60

**Questão 10**

Efetue as operações:

a)  $1245 + 456 =$  \_\_\_\_\_

b)  $5300 - 789 =$  \_\_\_\_\_

c)  $R\$ 879,00 + R\$ 125,90 =$  \_\_\_\_\_

d)  $R\$ 1230,00 - R\$ 654,30 =$  \_\_\_\_\_

