


Nama :

Kelas :


EKSPRESI DAN OPERASI LOGIKA

AKTIVITAS 1.2


Tuliskan perubahan warna pada kotak dibawah ini sesuai dengan operasi logika yang diperintahkan



A



B



OR

JAWABLAH PERTANYAAN BERIKUT INI!

Petunjuk: Baca situasi berikut dan tentukan hasilnya (True/False).

1. Kelulusan Ujian

Syarat: Nilai Matematika ≥ 75 dan Nilai IPA ≥ 75 .

Fakta: Matematika 80, IPA 70.

HASIL :

2. Hadiah Ulang Tahun

Syarat: Mendapat hadiah jika teman datang atau keluarga mengirim kado

Fakta: Teman datang, keluarga kirim kado.

HASIL :

3. Menyalakan lampu

Syarat: Lampu menyala jika tombol A XOR tombol B ditekan.

Fakta: Tombol A ditekan, tombol B tidak ditekan.

HASIL :