

UJIAN MADRASAH IBTIDAIYAH (MI)
TAHUN PELAJARAN 2020/2021
Mata Pelajaran : Ilmu Pengetahuan Sosial (IPS)

I. Berilah tanda silang (x) pada huruf a, b, c atau d untuk jawaban yang benar!

1. Perhatikan tabel sumber daya alam dan manfaatnya di bawah ini!


NO	SDA	Pemanfaatan
1	Matahari	Pembangkit listrik, dan menerangi lingkungan.
2	Kerbau	Bahan makanan dan sumber tenaga bagi para petani.
3	Plastik	Bahan baku pembuatan jarum jahit, gunting, dan meja jahit.
4	Minyak bumi	Bahan utama pembuatan bahan bakar
5	Kayu	Bahan baku pembuatan patung, membantu pengeringan ikan

Yang merupakan pasangan yang benar antara sumber daya alam dan pemanfaatannya adalah ...

- A. 1, 2 dan 3
B. 1, 3 dan 4
C. 2, 3 dan 4
D. 2, 4 dan 5
2. Perhatikan gambar kenampakan alam di bawah ini!



Pernyataan yang benar berdasarkan gambar kenampakan alam di atas adalah ...

- A. Banyak penduduknya bermata pencaharian sebagai petani
B. Suhu dan cuaca daerahnya sangat dingin
C. Masyarakat menggunakan lahannya untuk perindustrian
D. Sebagai tempat budidaya ikan laut, rumput laut dan kerang
3. Perhatikan gambar berikut!
- 
- Tari yang berasal dari provinsi Sulawesi Selatan pada gambar di samping dinamakan tari
- A. Kipas Pakarena
B. Saman
C. Beungong Jeumpa
D. Kecak
4. Kondisi alam Indonesia berupa gunung, dataran tinggi, dataran rendah, danau dan pantai. Hal tersebut berpengaruh terhadap keragaman ...
- A. pekerjaan
B. agama
C. bahasa
D. suku

5. Perhatikan tabel di bawah ini!

KELOMPOK 1	KELOMPOK 2	KELOMPOK 3	KELOMPOK 4
Jagung	Kelapa sawit	Udang	Susu
Padi	Cengkeh	Rumput laut	Daging
Sayuran	Kopi	Cumi	Telur
Tebu	Karet	Lele	Kulit / bulu

Dari tabel di atas yang merupakan hasil dari peternak adalah kelompok ...

- A. 1
- B. 2
- C. 3
- D. 4

6. Yang merupakan jenis pekerjaan di daerah dataran tinggi adalah

A.



B.



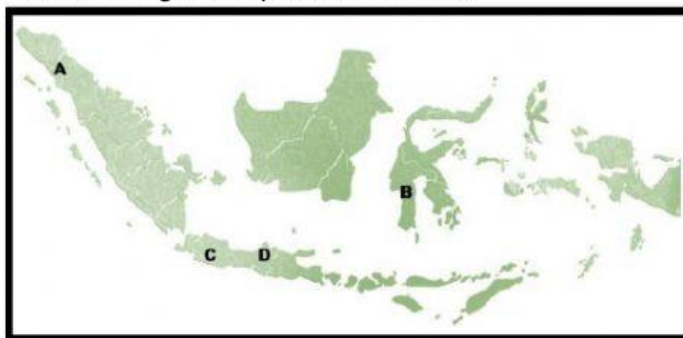
C.



D.



7. Perhatikan gambar peta di bawah ini!



Kerajaan Tarumanegara merupakan salah satu kerajaan Hindu di Indonesia. Berdasarkan peta di samping, lokasi kerajaan tersebut ditunjukkan pada huruf

- A. A
- B. B
- C. C
- D. D

8. Raja Goa dari Makassar mendapat gelar "Ayam Jantan dari Timur" karena kegigihan dan juga keberaniannya dalam melawan pasukan pemerintahan Belanda.

Raja tersebut bernama

- A. Raden Fatah
- B. Sultan Hasanuddin
- C. Sultan Agung
- D. Sultan Iskandar Muda

9. Perhatikan gambar peta di bawah ini!



Berdasarkan letak geografisnya, batas utara pulau pada gambar di atas berbatasan dengan

- A. pulau Kalimantan dan Laut Jawa
 - B. Selat Bali dan Pulau Bali
 - C. Selat Sunda
 - D. Samudra Hindia
10. Penebangan hutan secara liar dapat mengakibatkan kerusakan alam. Hal ini dikarenakan perilaku tersebut dapat menyebabkan
- A. terjadi pemanasan global
 - B. satwa dan fauna berkembangbiak dengan baik
 - C. banjir dan tanah longsor
 - D. udara sejuk karena hutan paru-paru dunia

11. Perhatikan pernyataan – pernyataan berikut!

- 1. Memudahkan komunikasi dan interaksi antar masyarakat.
- 2. Hilangnya budaya asli karena tergerus oleh budaya luar.
- 3. Munculnya budaya-budaya baru yang belum tentu sesuai dengan budaya setempat.
- 4. Pengaruh budaya yang baik dari dalam atau luar daerah sehingga memperkaya keragaman budaya.

Berdasarkan pernyataan – pernyataan di atas, yang merupakan dampak positif akibat pengaruh kondisi geografis Indonesia terhadap kondisi sosial masyarakatnya adalah

- A. 1 dan 2
 - B. 1 dan 4
 - C. 2 dan 3
 - D. 2 dan 4
12. Perhatikan gambar di bawah ini!




Bentuk interaksi manusia dengan lingkungan berdasarkan gambar diatas adalah

- A. petani dengan ikan
 - B. ikan dengan jala
 - C. petani dengan laut
 - D. ikan dengan laut
13. Perhatikan tabel di bawah ini!

NO	KEBUDAYAAN
1	Pembuatan gerabah dengan gaya luar negeri
2	Pembuatan anyaman bamboo
3	Tidak mau menyaksikan pementasan wayang kulit
4	Pembuatan patung dan ukiran


Dari kebudayaan – kebudayaan di atas yang dapat mendukung pembangunan nasional Indonesia adalah

- A. 1 dan 2
- B. 1 dan 3
- C. 2 dan 3
- D. 2 dan 4

14. Adanya sanggar tari dan sanggar teater merupakan contoh pembangunan sosial budaya. Sanggar tari sebagai sebuah wadah untuk melestarikan budaya dan juga wujud interaksi antar anggotanya yang berasal dari beragam suku ataupun daerah. Ilustrasi di atas merupakan bentuk pembangunan sosial budaya di bidang
- kesenian
 - kesehatan
 - pertanian
 - pendidikan
15. Perhatikan jenis-jenis usaha berikut :
- bengkel
 - salon
 - tukang cukur
 - tukang pijit
- Jenis usaha di atas merupakan usaha di bidang
- perdagangan
 - pertanian
 - jasa
 - industri
16. Pak Nanyo seorang sopir. Setiap hari Pak Nanyo mengantarkan sayur ke kota. Dalam prinsip ekonomi kegiatan Pak Nanyo tersebut tergolong kegiatan distribusi. Manfaat dari kegiatan tersebut adalah
- menambah nilai guna suatu benda
 - mempercepat sampainya hasil produksi kepada konsumen
 - memperkecil dan menurunkan kuantitas dan kualitas produksi
 - memenuhi kebutuhan hidup
17. Perhatikan pernyataan – pernyataan berikut!
- Didirikan oleh satu orang pengusaha atau lebih.
 - Modal berasal dari pengusaha itu dan dari beberapa penanam modal.
 - Para penanam modal mempercayakan pengelolaan perusahaan kepada pengusaha.
- Pernyataan di atas merupakan ciri – ciri dari salah satu jenis usaha ekonomi yang disebut
- Perseroan Terbatas
 - Koperasi
 - CV (Persekutuan Komanditer)
 - BUMN
18. Dahulu banyak bangsa Eropa yang ingin menguasai Indonesia, dikarenakan Indonesia kaya akan rempah-rempah. Negara yang pertama kali memulai ekspedisi terhadap bangsa Indonesia adalah
- Belanda
 - Perancis
 - Portugis
 - Inggris
19.  Monumen di atas dibangun guna memperingati peristiwa serangan umum 1 Maret di Yogyakarta. Tokoh yang terlibat dalam peristiwa tersebut adalah
- Letkol Soeharto
 - Ahmad Tahir
 - Dr. Karyadi
 - Jendral Sudirman

20. Perhatikan pernyataan berikut!
1. Mempunyai rasa nasionalis yang tinggi
 2. Perjuangan bersifat kedaerahan
 3. Adanya persenjataan yang memadai
 4. Belanda memiliki politik *devide et impera* (politik mengadu domba)
- Dari pernyataan di atas, yang merupakan penyebab kegagalan perjuangan bangsa Indonesia melawan penjajah sebelum sumpah pemuda adalah
- A. 1 dan 2
 - B. 1 dan 3
 - C. 2 dan 3
 - D. 2 dan 4
21. Selain Indonesia, ada beberapa negara ASEAN lainnya yang daratannya berbentuk kepulauan, diantaranya yaitu
- A. Vietnam
 - B. Filipina
 - C. Laos
 - D. Thailand

22. Patung Dewa Murungga di Malaysia merupakan patung berukuran 42,7 meter. Gambar di bawah ini yang menunjukkan patung tersebut adalah ...



23. Setelah pulih dari Perang Vietnam, negara ini mulai berkembang di berbagai sektor perekonomiannya. Bidang yang mendukung perkembangan ekonomi di Vietnam adalah
- A. pariwisata dan turisme
 - B. pertanian dan perkebunan
 - C. pertambangan dan industri
 - D. perdagangan dan transportasi

24. Potensi alam yang dimiliki Brunei Darussalam dapat menjadikan negara tersebut sebagai negara dengan pendapatan perkapita tertinggi di Asia Tenggara. Potensi utama yang dimiliki Brunei Darussalam yaitu ...
- minyak dan gas alam
 - kelapa sawit dan padi
 - gula dan nanas
 - kayu dan rotan

25. Perhatikan gambar bendera di bawah ini!



Sistem pemerintahan dari negara yang mempunyai gambar bendera seperti di atas adalah

- Republik
 - Demokrasi parlemen
 - Kerajaan
 - Kekaisaran
26. Perhatikan gambar di bawah ini !



Dampak negatif alat teknologi modern di atas adalah

- mempermudah aktivitas jual beli tanpa bertatap muka
 - komunikasi menjadi lebih mudah walaupun jarak jauh
 - adanya kemudahan dalam akses informasi dan referensi
 - meningkatnya gaya konsumtif masyarakat
27. Nilai-nilai sosial dalam masyarakat menjadi semakin luntur karena globalisasi. Hal tersebut ditandai dengan
- tingginya semangat gotong royong
 - sikap individualistis mulai terkikis
 - tradisi masyarakat masih dipertahankan
 - munculnya sikap egois atau mementingkan diri sendiri

28.

No	Perubahan Perilaku Masyarakat
1	Pola pikir tradisional
2	Sikap individualistik
3	Teknologi informasi semakin canggih
4	Gotong royong

Yang termasuk perubahan perilaku masyarakat setelah adanya globalisasi dari segi sosial budaya adalah

- 1
- 2
- 3
- 4

29. Globalisasi menyebabkan masuknya tenaga kerja asing dari luar negeri ke Indonesia. Hal tersebut tentu saja dapat menyebabkan persaingan dalam memperoleh pekerjaan. Sikap positif untuk menghadapi hal tersebut yaitu....
- menggunakan teknologi untuk kepentingan dan menambah wawasan lebih luas lagi
 - meningkatkan kompetensi diri dan mempersiapkan diri agar memiliki keunggulan kompetitif
 - menggunakan produk dalam negeri sebagai wujud cinta tanah air
 - mempelajari kebudayaan daerah agar tetap terjaga kelestariannya
30. Sarana pendistribusian barang menjadi lebih cepat merupakan dampak adanya ...

A.



B.



C.



D.



31. Perhatikan gambar tokoh di bawah!



Tokoh diatas adalah salah satu pendiri ASEAN, yaitu

- Narsisco Ramos
 - Abdul Razak Hussein
 - Adam Malik
 - Thanat Khoman
32. Belakangan ini marak terdengar kasus pembantaian etnis muslim Rohingnya oleh kelompok radikal umat Budha yang terjadi di Myanmar. Akibatnya banyak memakan korban tewas. Banyak diantara mereka yang mengungsi hingga ke negara Indonesia. Peran Indonesia dalam mengatasi konflik tersebut antara lain...
- tidak ikut campur urusan negara Myanmar
 - mengirim pasukan TNI untuk ikut berperang di negara Myanmar
 - menampung semua pengungsi dari Myanmar untuk tinggal di Indonesia
 - memfasilitasi para pengungsi dan bersama-sama dengan negara ASEAN lain mendesak pemerintah Myanmar agar menyelesaikan konflik tersebut

33.

No	Bentuk Kerjasama
1	Penyelenggaraan <i>Sea Games</i>
2	Penghapusan diskriminasi terhadap perempuan
3	Pendirian proyek Abu Soda Thailand
4	Penandatanganan Kesepakatan Kerjasama di bidang Pariwisata <i>ASEAN Tourism Agreement (ATA)</i>
5	Penurunan tarif produk pertanian

Berdasarkan tabel di atas, yang termasuk kerjasama ASEAN ditunjukkan oleh nomor....

- 1, 3, 4
- 1, 2, 3
- 2, 3, 4
- 3, 4, 5

34. Peran Indonesia dalam lingkungan ASEAN dalam bidang sosial untuk Filipina adalah
- mengirim bantuan beras ke Filipina
 - Indonesia membantu usaha perdamaian antara pemerintah Filipina dengan gerakan pembebasan Muslim Moro
 - Indonesia mengirim tenaga pengajar dan dosen ke Filipina
 - Indonesia mengirim misi kebudayaan ke Filipina

35.

No	Nama Kerjasama	Negara
1	Industri Tembaga	a. Singapura
2	Diesel Marine	b. Kamboja
3	Pupuk Urea Amonia	c. Indonesia
4	Pabrik Abu Soda	d. Brunei Darusalam

Pasangan kerjasama negara-negara ASEAN yang tepat adalah....

- 1 dan d
 - 2 dan b
 - 3 dan c
 - 4 dan a
36. Perhatikan gambar berikut!



Dalam persiapan Proklamasi Kemerdekaan Republik Indonesia, gambar tokoh di atas berperan sebagai....

- mengetik naskah proklamasi dan penengah antara golongan tua dan muda
 - perumus teks proklamasi dan menulis naskah proklamasi
 - penandatangani naskah proklamasi dan perumus teks proklamasi
 - menulis naskah proklamasi dan mengetik naskah proklamasi
37. Tokoh golongan muda yang mengusulkan agar yang menandatangani teks proklamasi adalah Ir. Soekarno dan Drs. Moh. Hatta atas nama bangsa Indonesia adalah
- B. M. Diah
 - Sukarni
 - Bung Tomo
 - M. Toha
38. Perhatikan pernyataan di bawah ini!
- 1) Belanda mengakui secara *de facto* wilayah Republik Indonesia, yaitu Jawa, Sumatra dan Madura.
 2. Belanda harus meninggalkan wilayah RI paling lambat tanggal 1 Januari 1949.
 3. Pihak Belanda dan Indonesia sepakat membentuk negara Republik Indonesia Serikat (RIS).
- Pernyataan – pernyataan diatas merupakan hasil dari perundingan
- Linggarjati
 - Renville
 - Roem Royen
 - Konferensi Meja Bundar

39.



Tokoh pada gambar di atas terlibat dalam usaha mempertahankan kemerdekaan yakni pada waktu peristiwa

- A. Pertempuran Ambarawa
 - B. Pertempuran Medan Area
 - C. Pertempuran Surabaya
 - D. Pertempuran 5 hari di Semarang
40. Rafa berasal dari keluarga kelas atas, orang tuanya bekerja di Perancis. Oleh karena itu setiap liburan semester Andika selalu memilih liburan ke luar negeri. Dia lebih menyukai barang-barang buatan dalam negeri. Dalam hal itu terbukti bahwa
- A. Rafa mencintai produk dalam negeri
 - B. Rafa tidak mampu membeli barang buatan luar negeri
 - C. Rafa memilih menggunakan barang yang murah
 - D. orang tua Rafa tidak mau membelikan barang-barang luar negeri