



LKPD

Pengembangan Wilayah Desa dan Perdesaan



Nama :

Kelas :

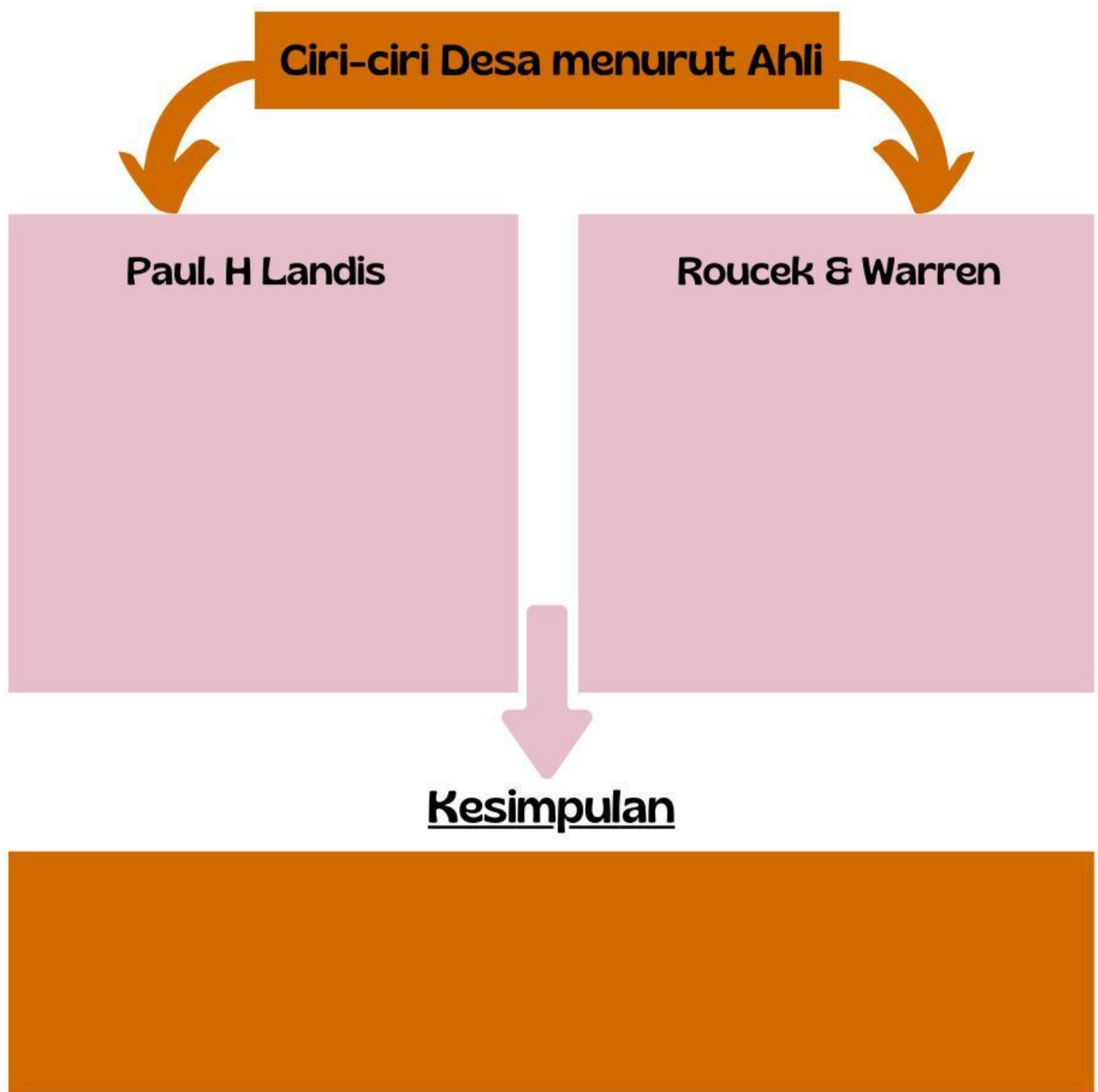
**Madrasah Aliyah Muhammadiyah
Bantaeng
TA 2025/2026**

Petunjuk Belajar (Petunjuk Siswa)

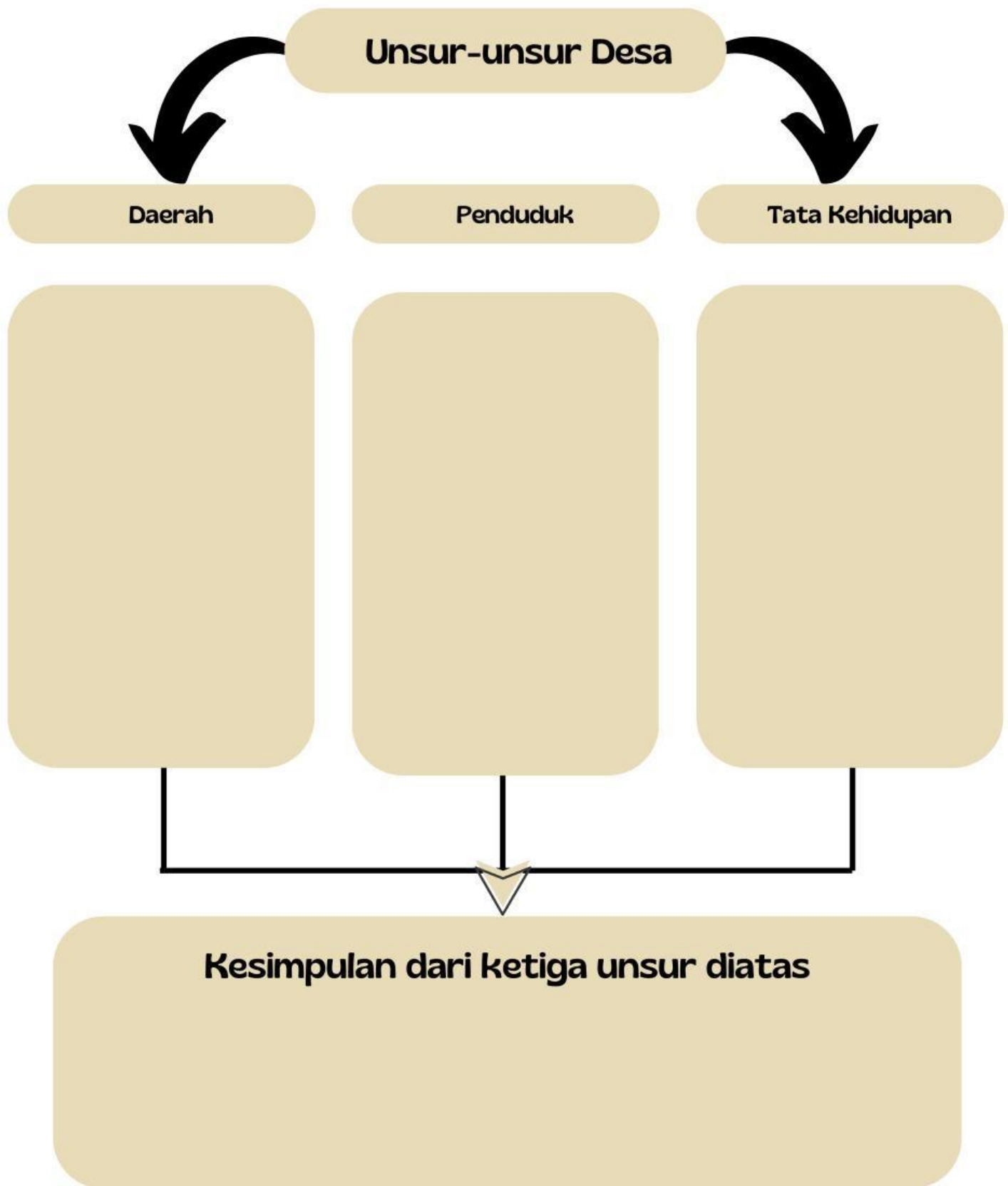
- Baca secara cermat bahan ajar sebelum mengerjakan tugas
- Baca literatur lain untuk memperkuat pemahaman
- Kerjakan setiap langkah sesuai tugas

TUGAS


Lengkapilah peta konsep di bawah ini itentang ciri-ciri desa



Lengkapilah bagan dibawah ini



Isilah bagan dibawah ini terkait dengan tipe desa berdasarkan tingkat pembangunan dan kemampuan wilayahnya

A diagram template with a pink border. It consists of a small rectangular box at the top left, connected by a horizontal line to a larger, rounded rectangular box on the right.A diagram template with an orange border. It consists of a small rectangular box at the top left, connected by a horizontal line to a larger, rounded rectangular box on the right.A diagram template with a blue border. It consists of a small rectangular box at the top left, connected by a horizontal line to a larger, rounded rectangular box on the right.

- Silahkan scan kode QR artikel disamping
- Pahami artikel tersebut untuk menjawab beberapa pertanyaan yang ada dibawah ini



1. Jelaskan manfaat utama penerapan SID dalam peningkatan kualitas perencanaan Desa Pattaneteang Kec. Tompobulu Kab. Bantaeng
2. Apa saja hambatan potensial dalam penerapan SID di desa tersebut dan usulkan solusi yang praktis

Jawaban