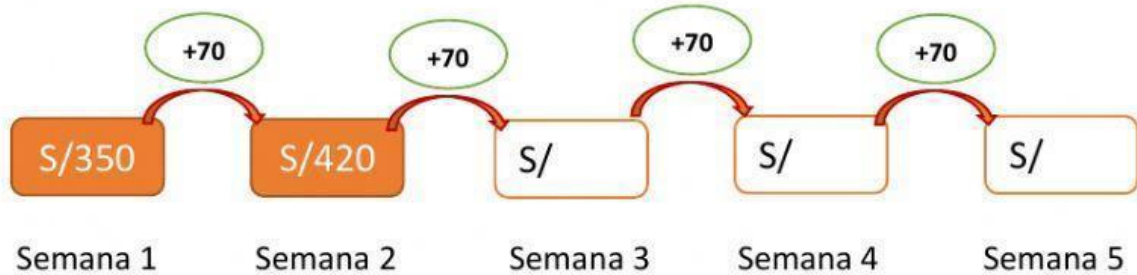




PATRONES ADITIVOS








1. Marisol tiene ahorrados S/350 y quiere comprar un celular. Para poder comprarlo decide ahorrar cada semana 70 soles más. ¿Cuánto dinero tendrá luego de cinco semanas?



Respuesta: Luego de 5 semanas tendrá _____ soles.

2. Observa las siguientes figuras y completa la secuencia con la imagen que sigue.



3. Completa cada secuencia y escoge el patrón de formación correspondiente

25	125		325		
----	-----	--	-----	--	--

Patrón:

1 500	1 200	900			0
-------	-------	-----	--	--	---

Patrón: