



**CENTRO EDUCATIVO EVANGÉLICO NO GUBERNAMENTAL
DESARROLLO INTEGRAL**

Examen de Ciencias Sociales Segundo Parcial

valor 40%

Docente: Jose Barahona

Grado: Sexto



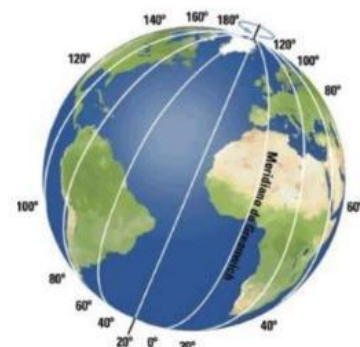
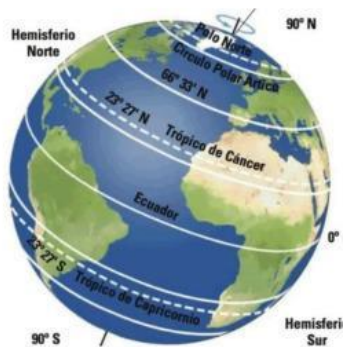
Seleccione los instrumentos de la geografía



Indique la imagen que representa los paralelos y la imagen que representa los meridianos

paralelo

meridiano



Seleccione que simboliza la imagen

NEW YORK

PARIS

MOSCOW

TOKYO



clima

Estación del año

Huso horario

Ubique el tipo de clima en cada caso

Clima cálido

Clima frio

Clima templado





**CENTRO EDUCATIVO EVANGÉLICO NO GUBERNAMENTAL
DESARROLLO INTEGRAL**
Examen de Ciencias Sociales Segundo Parcial

valor 40%

Docente: Jose Barahona

Grado: Sexto



Ubique las capas de la tierra

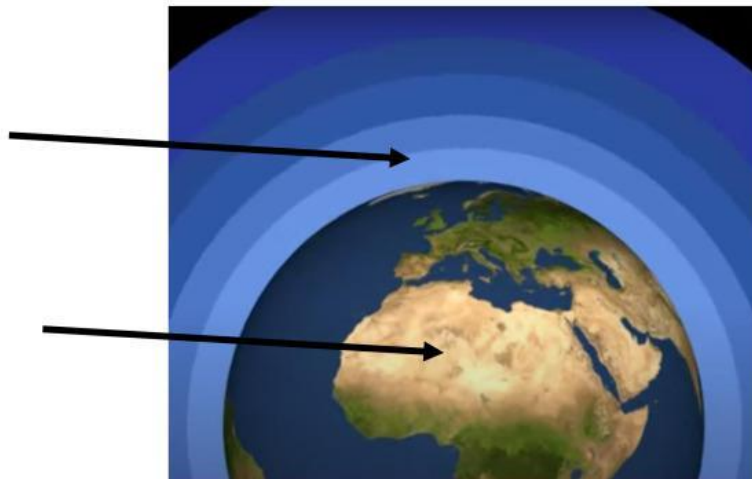
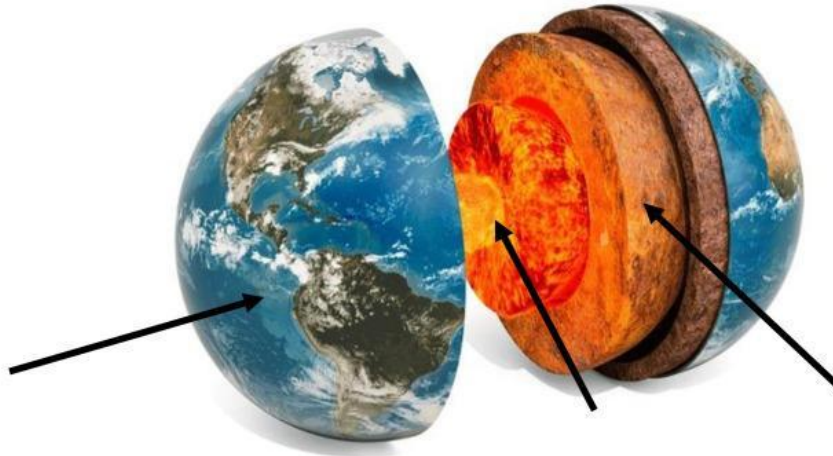
hidrósfera

Geósfera

hidrósfera

Núcleo

manto



Ubique el nombre de cada continente donde corresponde:

América

Asia

Europa

Antártida

Oceanía

África



**CENTRO EDUCATIVO EVANGÉLICO NO GUBERNAMENTAL
DESARROLLO INTEGRAL**
Examen de Ciencias Sociales Segundo Parcial

valor 40%

Docente: Jose Barahona

Grado: Sexto

