

Tata Surya



Jawablah pertanyaan di bawah ini dengan singkat dan jelas. Untuk pertanyaan pilihan ganda, pilihlah jawaban yang benar dengan mengetuk pada opsi a, b, c, dan d.

1. Bintang pusat tata surya kita adalah...

- A. Bulan
- B. Matahari
- C. Jupiter
- D. Bumi

2. Planet terkecil di tata surya adalah...

- A. Venus
- B. Merkurius
- C. Mars
- D. Bumi

3. Planet yang dijuluki "Planet Merah" adalah...

- A. Venus
- B. Mars
- C. Jupiter
- D. Saturnus

4. Planet yang memiliki cincin indah terbuat dari es adalah...

- A. Jupiter
- B. Saturnus
- C. Uranus
- D. Neptunus

5. Bumi adalah planet ke- ___ dari Matahari.

- A. 1
- B. 2
- C. 3
- D. 4

6. Gambar dibawah ini merupakan Satelit alami Bumi yang bernama...



- A. Phobos
- B. Bulan
- C. Europa
- D. Titan



Tata Surya



Jawablah pertanyaan di bawah ini dengan singkat dan jelas. Untuk pertanyaan pilihan ganda, pilihlah jawaban yang benar dengan mengetuk pada opsi a, b, c, dan d.

7. Benda langit yang memiliki ekor panjang saat mendekati Matahari adalah...



- A. Asteroid
- B. Meteor
- C. Komet
- D. Satelit

8. "Bintang jatuh" yang sebenarnya adalah batuan terbakar di atmosfer disebut...



- A. Meteor
- B. Komet
- C. Planet katai
- D. Asteroid

9. Benda langit di bawah ini yang memberikan cahaya dan panas ke Bumi dapat disebut...



- A. Bulan
- B. Matahari
- C. Bintang
- D. Awan



Tata Surya



Jawablah pertanyaan di bawah ini dengan singkat dan jelas. Untuk pertanyaan pilihan ganda, pilihlah jawaban yang benar dengan mengetuk pada opsi a, b, c, dan d.

10. Planet di bawah ini adalah sebagai tempat kita tinggal makhluk hidup yang dapat disebut dengan...



- A. Mars
- B. Venus
- C. Bumi
- D. Jupiter

Jawablah pertanyaan di bawah ini dengan singkat dan jelas. Untuk pertanyaan pilihan ganda, pilihlah jawaban yang benar dengan menggaris pada opsi a, b, c, dan d.

**11. Hubungkan dengan garis jawaban yang sesuai!
Kumpulan bintang yang membentuk pola tertentu disebut...**



A. Planet

B. Rasi Bintang

C. Awan

D. Meteor

Tata Surya



Jawablah pertanyaan di bawah ini dengan singkat dan jelas. Untuk pertanyaan pilihan ganda, pilihlah jawaban yang benar dengan menggaris pada opsi a, b, c, dan d.

12. Hubungkan dengan garis jawaban yang sesuai!
Alat yang digunakan untuk pergi ke luar angkasa adalah...



A. Mobil



B. Kapal

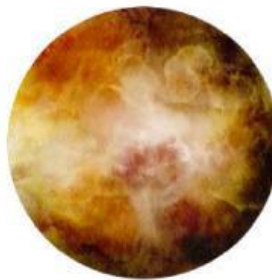


C. Roket



D. pesawat

13. Hubungkan dengan garis jawaban yang sesuai!
Planet terdekat dengan Matahari adalah...



A. Bumi

B. Venus

C. Merkurius



D. Mars

Tata Surya



Jawablah pertanyaan di bawah ini dengan singkat dan jelas. Untuk pertanyaan pilihan ganda, pilihlah jawaban yang benar dengan menggaris pada opsi a, b, c, dan d.

14. Hubungkan dengan garis jawaban yang sesuai!
Planet terbesar di tata surya kita adalah...




A. Saturnus

B. Jupiter

C. Neptunus

D. Bumi

15. Hubungkan dengan garis jawaban yang sesuai!
Planet terdingin di tata surya adalah...



A. Uranus

B. Neptunus

C. Mars

D. Saturnus