


Números Ordinais

01 - OBSERVE A FILA DAS CRIANÇAS. A ORDEM É DA ESQUERDA PARA A DIREITA.









A) QUANTAS CRIANÇAS PARTICIPAM DA BRINCADEIRA? _____

B) QUEM É A CRINANÇA QUE OCUPA A 3ª POSIÇÃO? _____

C) QUAL É A POSIÇÃO DE HELENA? _____

D) QUEM CHEGOU EM ÚLTIMO LUGAR? _____

02 - OBSERVE A TABELA DOS TIMES DE FUTEBOL.

TIME	PONTUAÇÃO
	13
	7
	24
	3
	9
	18

A) DE ACORDO COM A PONTUAÇÃO, QUEM É O PRIMEIRO COLOCADO?

B) E QUEM É O ÚLTIMO COLOCADO? _____

C) COMO FICOU A CLASSIFICAÇÃO?

1º _____

2º _____

3º _____

4º _____

5º _____

6º _____