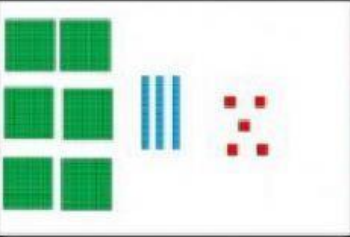
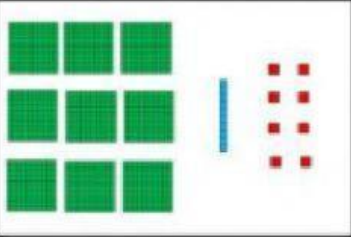
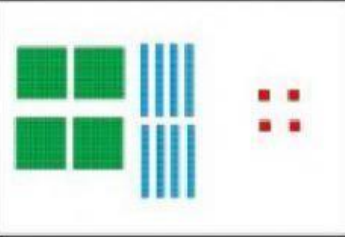
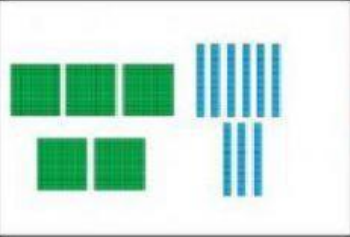
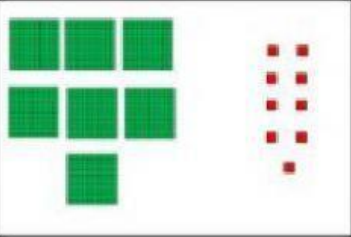

 PRESTON SCHOOL <i>Always the truth.</i>	IEA MATEMÁTICA EVALUACION DIAGNOSTICA <i>Números hasta el 999</i>	Date:	Time:
	Student: Miss: Julianna Mardones Cerna	Ideal Score (30% Nota 1)	Score gotten

1.- Escribe qué número está representado.

		
<input type="text"/>	<input type="text"/>	<input type="text"/>
		
<input type="text"/>	<input type="text"/>	<input type="text"/>

2. Escribe como se leen los siguientes números.

478	<input type="text"/>
823	<input type="text"/>
709	<input type="text"/>
965	<input type="text"/>

3. Descompone los siguientes números.

$$367 = \boxed{} + \boxed{} + \boxed{}$$
$$\boxed{} \text{ C} + \boxed{} \text{ D} + \boxed{} \text{ U}$$

$$725 = \boxed{} + \boxed{} + \boxed{}$$
$$\boxed{} \text{ C} + \boxed{} \text{ D} + \boxed{} \text{ U}$$

4. Compara los números y arrastra el signo que corresponde.

123

321

450

405

725

725

368

378

>

=

<

>

<