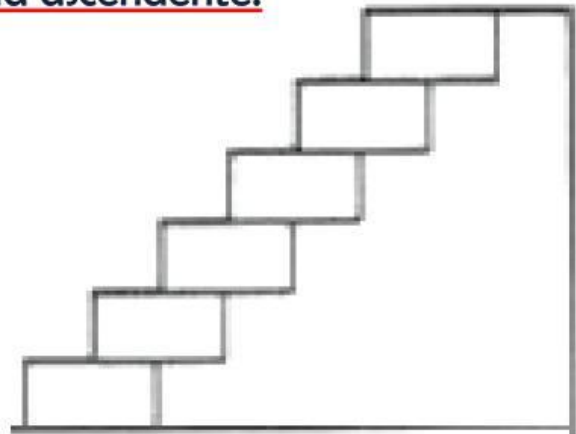


NOMBRE Y APELLIDOS: _____

EVALUACIÓN BIMESTRAL DE MATEMÁTICA.

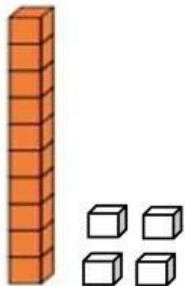
1. Ordena los números en forma ascendente.

14	8
17	20
13	5

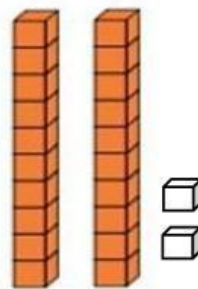


2. Escribe la decena y unidad que corresponde.

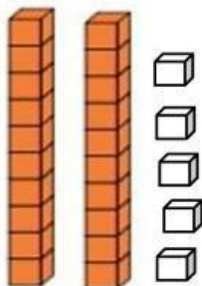
25	15	14	22
----	----	----	----



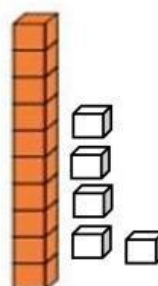
D	U



D	U



D	U



D	U

3. Completa el signo mayor, menor o igual >, < o =

<	>	<	=	<	<
---	---	---	---	---	---

12

14

18

21

6

9

13

14

15

13

26

26

4. Resuelve el siguiente problema:

Memo tiene 12  y Pipo 15  ¿Cuántas pelotas tienen los dos?

17

19

27

Respuesta:

5. Colocar el número antecesor y sucesor.

12 10 18 16 8 10 24 18 20 29 27 22

_____	9	_____	_____	19	_____
_____	17	_____	_____	28	_____
_____	23	_____	_____	11	_____

6. Relaciona cada sólido geométrico con su nombre

cono esfera cubo prisma pirámide cilindro

