

ILMU PENGETAHUAN ALAM

LEMBAR KERJA PESERTA DIDIK



Kelas
V


DISUSUN OLEH : MUHAMMAD RIFKY HIDAYAT

Nama :

Kelas :

Kenali Asam Basa

Pasangkan gambar dengan zat asam basa berikut ini dengan benar!



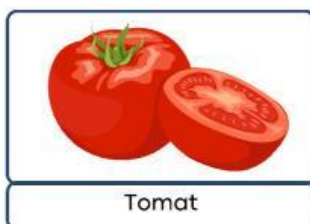
◀▶ Basa



◀▶ Asam



◀▶ Asam



◀▶ Basa



◀▶ Basa

Nama: _____ Kelas: _____

Jawab Pertanyaan ini

1. Apa Rasa khas dari zat asam?


2. Sebutkan 2 Contoh zat yang bersifat basa:

..... dan.....

3. Jika Kamu menyentuh sabun dan terasa licin, itu menunjukkan bahwa sabun bersifat

....

- A. Asam
- B. Basa
- C. Netral
- D. Masin



4. Dari semua gambar di atas, mana zat yang biasa kamu gunakan setiap hari?

Nama :

Kelas :

Seret gambar atau nama benda berikut ke kotak yang sesuai



ASAM

BASA