

إختبار قصير للصف الثاني في مادة الرياضيات


الرقم الجامعي : 18240158

الاسم : شيماء يحيى قسور التوبي

السؤال الأول: (اختر الاجابة الصحيحة)




(ب)



(أ)



(ب)




(أ)




(ب)



(أ)



(ب)




(أ)

السؤال الثاني: (صنف الأعداد التالية إلى أعداد زوجية وأعداد فردية في الجدول)

15 12 10 7

أعداد فردية	أعداد زوجية

السؤال الثالث: (صل كل شكل بالكسر الذي يمثلته)



(ب) $2(1/2)$

(أ) $1(1/2)$

(ب) $3(4/3)$

(أ) $2(3/4)$

السؤال الرابع : (حل المسائل التالية)

1. مع نورة 5 تفاحات، وأعطتها أمها 3 تفاحات أخرى. كم تفاحة أصبحت معها؟

2. اشترى علي 12 قطعة حلوى ، وأعطى أخته 4 قطع. كم قطعة متبقية لديه؟

السؤال الخامس :

رتب أحمد البطاقات التالية من الأصغر إلى الأكبر
اكتشف الخطأ الذي وقع فيه أحمد ؟

80 65 24 27 22





ثم اعيد ترتيب البطاقات بشكل صحيح

□ □ □ □ □

السؤال السادس : (نعم أم لا)

رسم سالم خطوط تماثل لكل من الاشكال الاتية

هل رسمه صحيح:

الشكل	نعم	لا
		
		
		
		

السؤال السابع :

اختر الاجابة الصحيحة من بين البدائل المعطاه

1. ضعف العدد 7 هو:
2. سعيد يعد (3-6-9-12) نوع العد هنا هو
3. ناتج جمع $24 + 52 =$
4. باع سامي في اليوم الأول 36 كرتون برتقال وفي اليوم الثاني باع 25 كرتون . كم كرتون برتقال باع في اليوم الثالث

السؤال الثامن :

قم بقياس كلا من



السؤال التاسع :

أكمل النمط الآتي:

- (1) 5, 10, 15, _____, _____
(2) 2, 4, 6, _____, _____
(3) 10, 9, 8, _____, _____
(4) 1, 3, 5, _____, _____

السؤال العاشر :

ضع إشارة (<) أو (>) أو (=):

- (1) 20 3 - 18
(2) 10 + 5 15
(3) 12 12
(4) 10 4 + 7

السؤال الحادي عشر :

- (1) في الصف 8 أولاد و7 بنات، كم عدد التلاميذ الكلي؟
الجواب: _____
- (2) مع سامي 10 ريال، اشترى كتابًا بـ 4 ريال. كم يتبقى معه؟
الجواب: _____
- (3) أحمد يقرأ 3 صفحات كل يوم. كم صفحة يقرأ في 5 أيام؟
الجواب: _____
- (4) إذا كان لديك 12 تفاحة وقسمتها على 3 أصدقاء بالتساوي، كم تفاحة يأخذ كل واحد؟
الجواب: _____
- (5) رتب الأعداد من الأكبر إلى الأصغر: 15 - 9 - 22 - 13 - 18

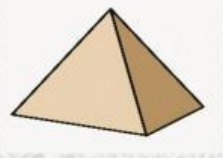
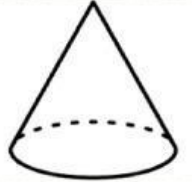
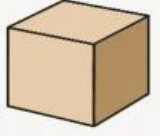
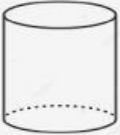
السؤال الثاني عشر: (صح أم خطأ)

يقول يوسف أن المصفوفة الموضحة لعملية الضرب تمثل $(6=3 \times 2)$

هل ما قاله يوسف صحيح؟ نعم لا



السؤال الثالث عشر : (أكمل الجدول التالي يا بطل)

عدد الرؤوس	عدد الأوجه	عدد الحواف	اسم الجسم	شكل الجسم
				
				
				
				

السؤال الرابع عشر:

من خلال السلسلة الآتية أجب عما يلي :

22	21	20	19	18
----	----	----	----	----

- أ) العدد الاصغر في السلسلة العددية _____
ب) العدد الذي يقع بين العدد 20 و 22 هو _____
ت) الاعداد الزوجية في السلسلة هي _____ , _____ , _____

السؤال الخامس عشر:

هيا ي عبقرى ادخل وحل اللعبة

افتح الصندوق

الرياضيات

البدء

انقر فوق كل صندوق بالتناوب لفتحه والكشف عن العنصر الذي بداخله.