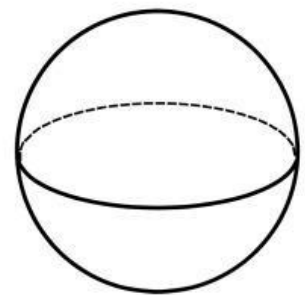


**NAMA :**

**KELAS :**

**Pasangkan sesuai dengan pernyataan yang benar!**

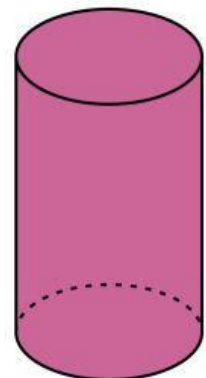
memiliki 1 titik puncak  
dan sebuah garis  
pelukis



tidak memiliki titik  
sudut dan memiliki  
alas serta tutup  
berbentuk lingkaran

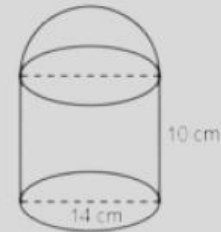


Tidak memiliki rusuk  
memiliki 1 sisi



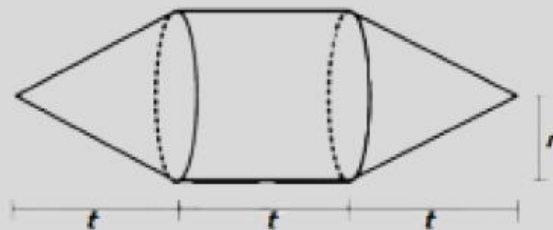
## **jawablah dengan jawaban yang tepat!**

Perhatikan gambar di samping!  
Luas seluruh permukaan bangun tersebut adalah.....



Tobi membuat topi ulang tahun dari karton berbentuk kerucut dengan diameter alas 21 cm dan Panjang garis pelukisnya 20 cm sebanyak 50 buah. Jika harga karton Rp80.000,00 setiap meter persegi, maka biaya minimal seluruhnya adalah.....

Sebuah kubah menara berbentuk setengah bola dengan jari-jari 7 m. Bagian luar kubah tersebut akan dicat, dan setiap 11 memerlukan 1 kaleng cat. Berapa kaleng cat yang diperlukan untuk mengecat kubah tersebut?



Jika  $t = 12$  cm dan  $r = 5$  cm, maka luas permukaan bangun ruang gabungan di atas adalah....

**pilihlah gambar dibawah ini yang merupakan jaring-jaring tabung**

