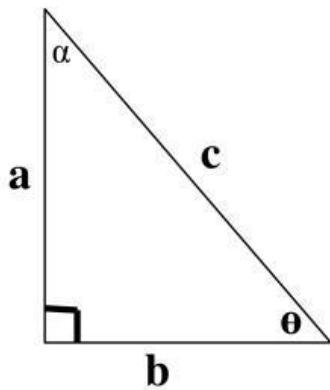


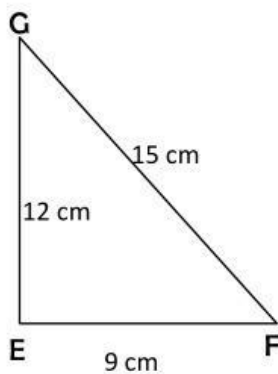
POST TEST

1. Perhatikan Gambar di bawah ini



Pernyataan	Benar	Salah
Jika berpatokan pada sudut α sisi b adalah sisi depan		
Jika berpatokan pada sudut θ sisi b adalah sisi depan		
Sisi c adalah sisi miring untuk kedua sudut θ dan α		
$\sin \theta = \frac{b}{c}$		
$\tan \alpha = \frac{b}{a}$		
$\cos \alpha = \frac{a}{c}$		

2.



$$\sin F + \cos G = \dots$$

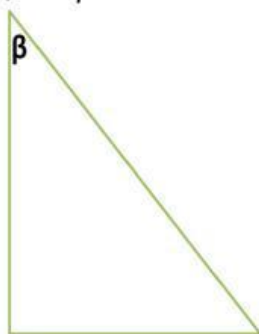
A. $\frac{5}{8}$

C. $\frac{12}{9}$

B. $\frac{8}{5}$

D. $\frac{20}{15}$

3. Jika, $\tan \beta = 8/15$. Nilai dari $\sin \beta$ dan $\cos \beta$ adalah ...



A. $\frac{15}{17}$ dan $\frac{17}{15}$

C. $\frac{8}{17}$ dan $\frac{15}{17}$

A. $\frac{15}{17}$ dan $\frac{8}{15}$

D. $\frac{15}{17}$ dan $\frac{8}{17}$

