

LEMBAR KERJA PESERTA DIDIK

PENGUKURAN

Kelompok:
Anggota Kelompok

- 1.
- 2.
- 3.
- 4.
- 5.







PETUNJUK KEGIATAN

- Duduklah bersama anggota kelompokmu
- Bacalah setiap pertanyaan dengan seksama
- Diskusikan bersama dengan anggota kelompokmu dan tulis jawaban kalian pada lembar yang disediakan
- Jika terdapat hal yang belum dipahami silahkan bertanya kepada guru

Untuk Kelas VII
Semester I

Alat Ukur Besaran Pokok

Lengkapilah tabel di bawah ini dengan menulis nama alat dan fungsinya!

Gambar	Nama Alat	Fungsi







Satuan dan besaran

Lengkapilah tabel satuan dari besaran di bawah ini dengan jawaban yang tepat!

Besaran	Satuan (SI)
Panjang	
Waktu	
Massa	
Suhu	
Kuat arus	
Intensitas cahaya	
Jumlah zat	