

วิชาฟิสิกส์ 1 รหัส ว30201

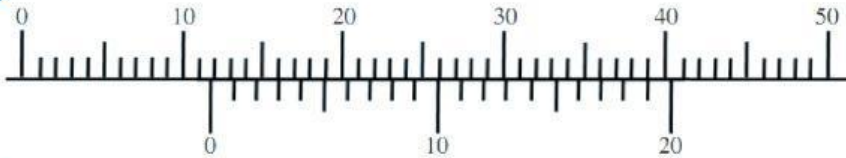


เรื่อง เครื่องมือวัด vernier

ชื่อ..... ชั้น..... เลขที่.....

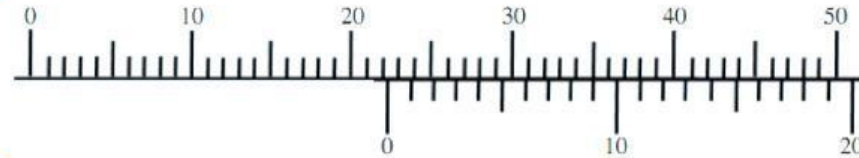
คำชี้แจง หักเรียงของเดิมคำตอบต่อไปนี้ให้ถูกต้อง

1



ค่าที่อ่านได้

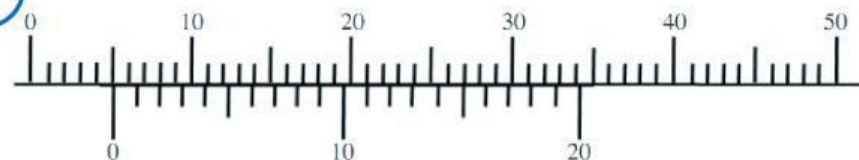
2



3



4



5

