



# E-LKPD PEMBELAJARAN ANAK

DISUSUN OLEH :



IRDA NF, IMA A, NZ SYITA



Nama:

Absen:

# Perbandingan Berat Buah

Bandingkan berat buah-buahan di bawah ini menggunakan simbol  $>$  (lebih berat dari),  $<$  (kurang berat dari), dan  $=$  (sama berat).



500 gr



350 gr



700 gr



700 gr



250 gr



200 gr



450 gr



600 gr




300 gr



300 gr



800 gr



500g



300 gr



900 gr



600 gr



150 gr



700 gr



650 gr



350 gr



450 gr



# MENGURUTKAN UKURAN BENDA

Urutkanlah benda dari terbesar ke terkecil



2




4



3



5



1





# MARI BELAJAR MENGHITUNG BUAH

Hitung jumlah setiap jenis buah dan tuliskan angkanya!



.....



.....




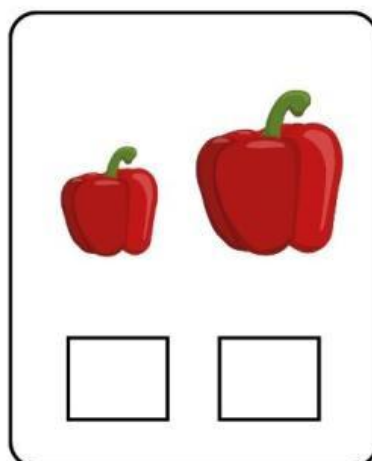


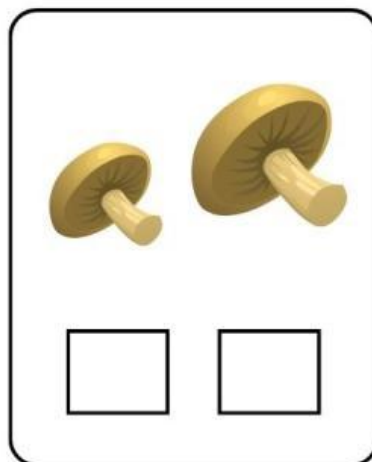

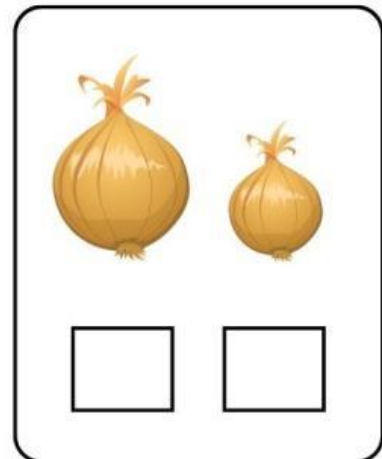


.....



.....

# Perbandingan Ukuran

Yuk beri tanda centang (✓) pada gambar yang lebih kecil di di bawah!



# TERBANG TINGGI BERSAMA ANGKA



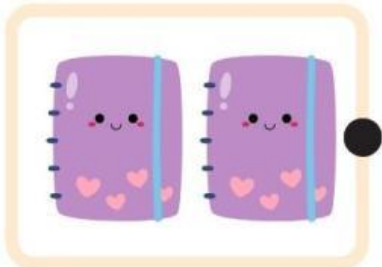

Isi bagian yang kosong dengan angka yang tepat  
agar semua balon dapat terbang!





# Menghubungkan Peralatan Sekolah dengan Angka

Hubungkan jumlah barang dengan angka yang sesuai.




# MARI BERHITUNG

Yuk beri tanda centang (✓) pada gambar yang lebih kecil di di bawah!



1 3 5

☐ ☐ ☐

7 5 6

☐ ☐ ☐

3 4 5

☐ ☐ ☐

5 6 9

☐ ☐ ☐

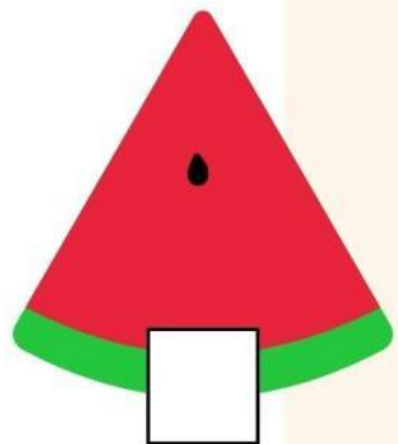





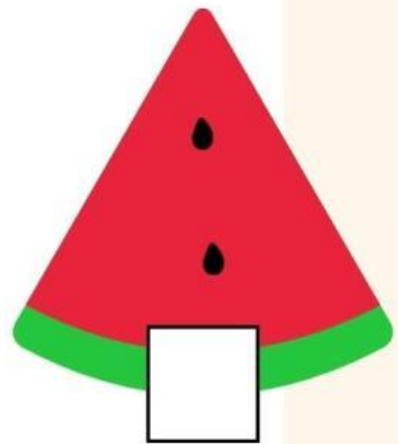

2 6 8

☐ ☐ ☐




# Hitunglah Biji Semangka

Hitunglah jumlah biji semangka dan tuliskan angkanya!



# BALON TAHUN BARU

Hitung dan tuliskan jumlah dari masing-masing balon.



A vertical list of 5 balloons with empty boxes for counting:

- Red balloon
- 
- Yellow balloon
- 
- Green balloon
- 
- Blue balloon
-