







PRUEBA DE MATEMATICA

RESUELVE EL SIGUIENTE PROBLEMA

Rosa tiene 15 cajas de armadores en cada caja hay 5 armadores ¿Cuántos armadores tiene Rosa?

DATOS	RAZOMAMIENTO	DESARROLLO												
<div> cajas</div> <div> armadores</div>		<div>\times</div> <table><tr><td>d</td><td>u</td></tr><tr><td></td><td></td></tr><tr><td></td><td></td></tr><tr><td></td><td></td></tr><tr><td></td><td></td></tr><tr><td></td><td></td></tr></table>	d	u										
d	u													
RESPUESTA: Rosa tiene  armadores.														