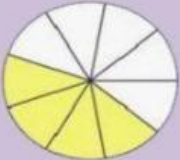



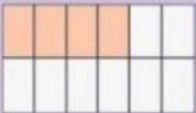

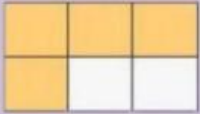


Fracciones

Une con flechas siguiendo el ejemplo

	$\frac{3}{5}$	Dos tercios
	$\frac{4}{12}$	Un medio
	$\frac{2}{3}$	Tres quintos
	$\frac{4}{9}$	Cuatro doceavos
	$\frac{1}{2}$	Cuatro Sextos
	$\frac{2}{4}$	Cuatro novenos
	$\frac{4}{6}$	Dos cuartos

	$\frac{8}{10}$	Cinco octavos
	$\frac{1}{3}$	Cuatro séptimos
	$\frac{3}{9}$	Un tercio
	$\frac{5}{8}$	Ocho décimos
	$\frac{4}{7}$	Tres novenos
	$\frac{9}{12}$	Seis décimos
	$\frac{10}{14}$	Diez catorceavos
	$\frac{6}{10}$	Nueve doceavos

