





Objetivo: Leer el problema y escribir la operación correspondiente.

Objetivo: Leer el problema y escribir la operación correspondiente.

14.  

33.  

$$\square \square \square = \square \square$$