

LKPD

BANGUN RUANG

Perhatikan video berikut ini:



Perhatikan materi presentasi berikut ini:



Materi



Materi

LKPD

BANGUN RUANG

1

TEKSFIELD

Bangun ruang yang memiliki 6 sisi berbentuk persegi panjang disebut...

2

SINGLE CHOICE

Bangun ruang yang semua sisinya berbentuk persegi adalah...

3

CHECKBOXES

Manakah di bawah ini yang termasuk bangun ruang...

☐

Kubus

☐

Balok

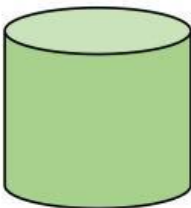
☐

Lingkaran

4

SELECT

Nama bangun ruang di bawah ini adalah...

☐

Tabung

☐

Balok

☐

Kubus

☐

Segitiga

LKPD

BANGUN RUANG

5

WORD SEARCH

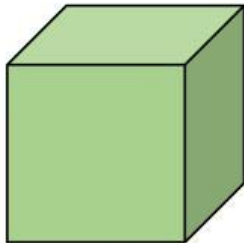
Temukan 3 kata pada kotak di bawah ini...

T	I	R	T	K
A	F	U	O	U
B	A	A	G	B
U	K	N	K	U
N	P	G	L	S
G	U	L	I	P

6

SPEAK

Sebutkan nama bangun ruang berikut dengan tepat!



LKPD

BANGUN RUANG

7

LISTENING

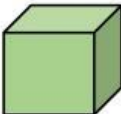
Dengarkan suara berikut dan tuliskan jawabannya dengan tepat!



8

DRAG & DROP

Tentukan rumus yang sesuai dengan gambar!



$$L = 6s^2$$

$$L = 2 \times (pl + pt + lt)$$

$$L = 2\pi r (r + t)$$

LKPD

BANGUN RUANG

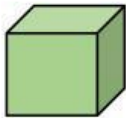
9

JOIN


Hubungkanlah nama-nama bangun ruang ini sesuai dengan gambar!



Kubus



Balok



Tabung