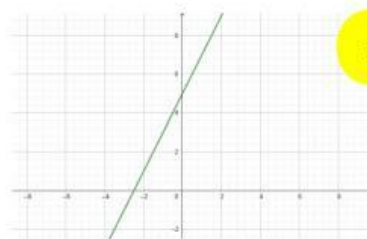




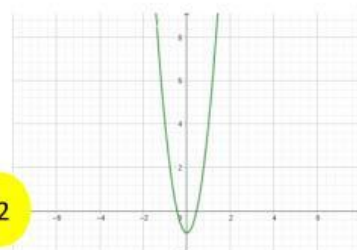
UNIVERSIDAD TÉCNICA DE AMBATO

FUNCIONES

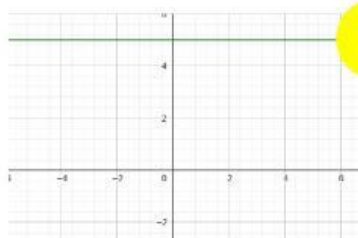
1. Identificar y poner el nombre de la función



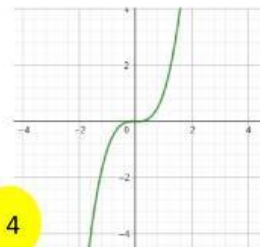
1



2



3



4

2. Colocar en los espacios vacíos el valor de $f(x)$, poner el resultado en decimales, separados por un punto si es necesario.

X	$f(x)=3x-2$
1	1
2	
0	-2
-1	-5
-2	

X	$f(x)=\frac{x}{2}$
1	
2	
0	0
-1	-0.5
-2	-1

X	$f(x)=\frac{x^2}{x-3}$
1	
2	-4
0	0
-1	
-2	-0.8

Autor: Jusstin Gallegos